

ВСЕРОССИЙСКАЯ ОЛИМПИАДА ШКОЛЬНИКОВ
ПО ИСТОРИИ 2019–2020 уч. г.
ШКОЛЬНЫЙ ЭТАП
6 класс

Ответы и критерии оценивания

1. Верны ли следующие утверждения («да» – «нет»)? Ответы внесите в таблицу.

- 1) Еврипид считается одним из основателей древнегреческой математики.
- 2) Великая Китайская стена начала строиться в то время, когда существовала Римская республика.
- 3) В рамках древнегреческой колонизации Причерноморья были построены города на территории современной Российской Федерации.
- 4) Солон является одним из основателей древнегреческой демократии.
- 5) К концу I века н. э. Римская империя полностью контролировала территорию современной Германии.
- 6) Фраза «Карфаген должен быть разрушен» характеризует одно из направлений внешней политики Александра Македонского.
- 7) Юлий Цезарь был первым диктатором Рима.
- 8) При Константине Великом христианство было официально разрешено на территории Римской империи.

Ответ.

1	2	3	4	5	6	7	8
Нет	Да	Да	Да	Нет	Нет	Нет	Да

По 2 балла за каждый верный ответ.

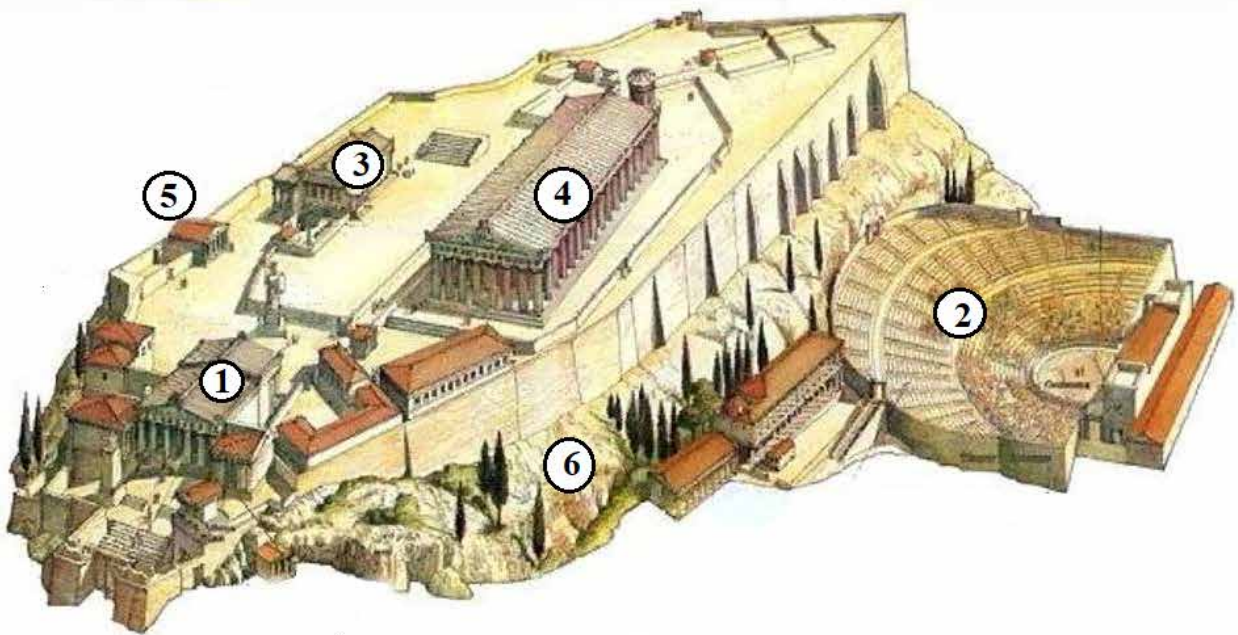
Максимум за задание – 16 баллов.

2. Перед вами фрагмент стихотворения русского поэта М. Волошина, посвящённого известнейшему архитектурному ансамблю. Вместо обозначенных буквами пропусков в тексте, запишите пропущенные названия, относящиеся к данному ансамблю. Укажите, каким цифрам соответствуют эти названия на изображении его реконструкции.

Серый шифер. Белый тополь.
Пламенеющий залив.
В серебристой мгле олив
Усечённый холм – _____ (А).
Ряд рассеченных ступеней,
Портик тяжких _____ (Б),
И за грудами камней
В сетке лёгких синих теней

Искры мраморных аллей.

Луч заката брызнул снизу...
Над долиной сноп огней...
Рдеет пламенем над ней он –
В горне бронзовых лучей
Загорелый _____ (В)...
Ночь взглянула мне в лицо.
Чёрны ветви кипариса.
А у ног, свернув кольцо,
Спит театр _____ (Г).



Ответ.

Буквенное обозначение пропуска в тексте	А	Б	В	Г
Пропущенное понятие	Акрополь	Пропилей (Пропилеи)	Эрехтейон (Эрехтеион)	Диониса (Дионис)
Цифровое обозначение соответствующего места на изображении	6	1	3	2

По 2 балла за каждый верный элемент ответа.
Максимум за задание – 16 баллов.

3. Установите соответствие между историческими деятелями и событиями, связанным с ними. К каждому элементу первого столбца подберите соответствующий элемент из второго столбца.

Исторические деятели	События
А) Тиберий Гракх	1) принятие титула принцепса
Б) Нерон	2) написание трактата «О галльской войне»
В) Октавиан Август	3) написание поэмы «Энеида»
Г) Юлий Цезарь	4) проведение аграрной реформы, крупные земельные перераспределения
Д) Вергилий	5) один из крупнейших пожаров в Риме
Е) Публий Корнелий Сципион	6) успешные военные действия против Карфагена

Ответ.

А	Б	В	Г	Д	Е
4	5	1	2	3	6

По 2 балла за каждое верное соотнесение.

Максимум за задание – 12 баллов.

4. Расставьте события в хронологической последовательности.

- 1) крещение Хлодвига
- 2) «Эпоха ленивых королей» во Франкском государстве
- 3) правление Калигулы в Древнем Риме
- 4) правление Клеопатры в Египте
- 5) поход Александра Македонского на Индию

Ответ.

5	4	3	1	2
---	---	---	---	---

4 балла за полностью верную хронологию.

Максимум за задание – 4 балла.

5. Укажите порядковые номера медалей, которые связаны с событиями Великой Отечественной войны 1941–1945 гг.

1		2	
---	---	---	--

Всероссийская олимпиада школьников по истории 2019–2020 уч. г.
Школьный этап. 6 класс. Критерии

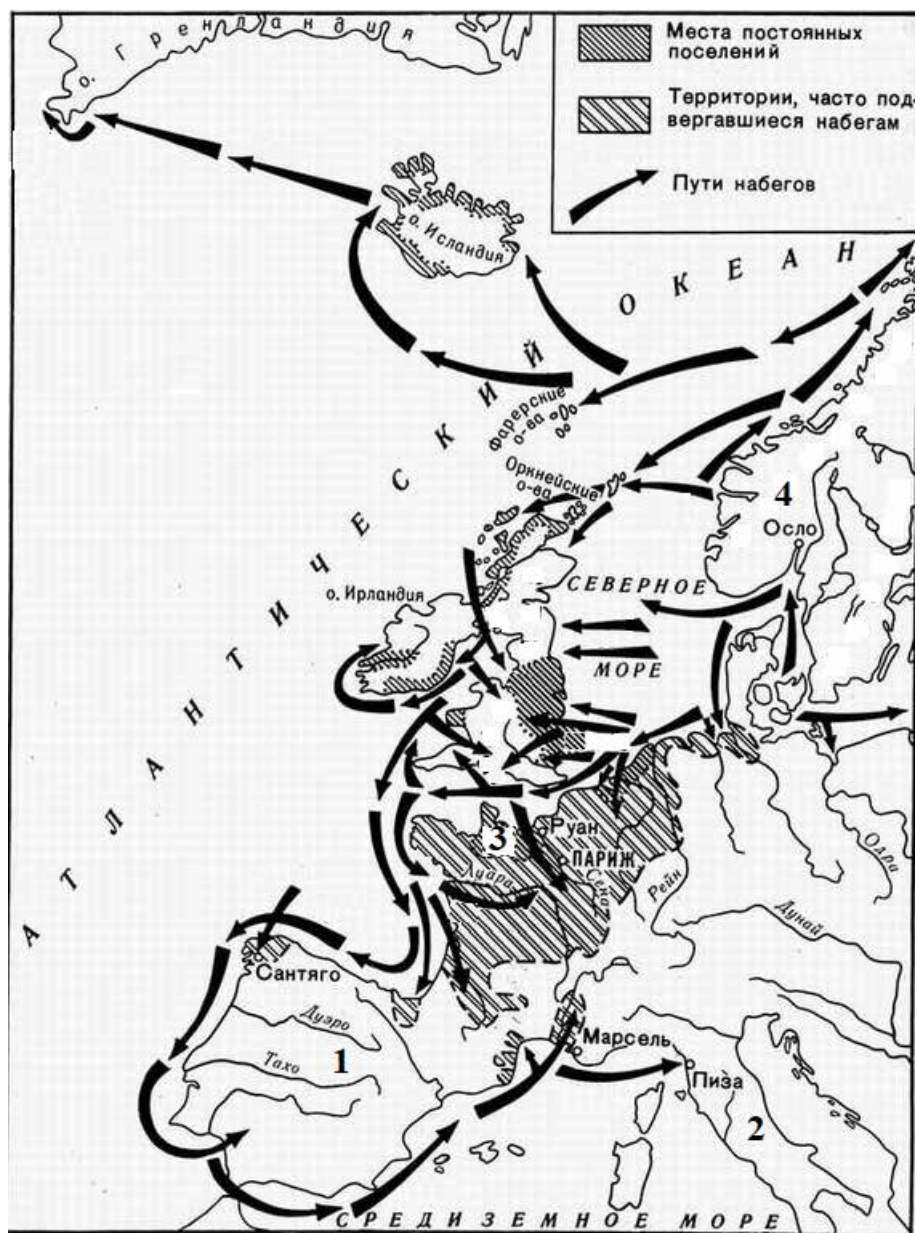
3		4	
5		6	
7		8	

Ответ. 1, 4, 6, 7.

По 2 балла за каждый верный ответ.

Максимум за задание – 8 баллов.

6. Внимательно рассмотрите схему и выполните предложенные задания.



6.1. Напишите в одно слово название скандинавских мореходов, походы которых изображены на представленной схеме.

Ответ. Викинги (норманны, варяги). 2 балла.

6.2. Выберите три века, когда походы, обозначенные на схеме стрелками, были наиболее активны и многочисленны.

- 1) V век до н. э.
- 2) I век до н. э.
- 3) III век н.э.
- 4) VIII век н.э.
- 5) IX век н.э.
- 6) X век н.э.

Ответ. 4, 5, 6. По 1 баллу за каждый верно указанный век. Всего 3 балла.

6.3. В исторической науке существует точка зрения, что один из континентов был открыт неизвестным мореплавателем XV века, а именно в результате деятельности этих мореходов. Укажите название этого континента. Напишите имя и фамилию мореплавателя XV века, которого также считают первооткрывателем этого континента.

Ответ. Америка (Северная Америка) (1 балл). Христофор Колумб (Колумб) (1 балл). Всего 2 балла.

Максимум за задание – 7 баллов.

7. Верны ли представленные ниже утверждения («да» – «нет») о схеме на предыдущей странице? Ответы внесите в таблицу.

1. На схеме обозначены походы скандинавских мореплавателей. На территории, обозначенной цифрой 3, ими было образовано герцогство Нормандия.
2. На территории, обозначенной цифрой 4, располагалась римская провинция Галлия.
3. На побережье территории, обозначенной цифрой 2, греками были основаны колонии.
4. На территории, обозначенной цифрой 1, существовало государство франков.


Ответ.


1	2	3	4
да	нет	да	нет

По 2 балла за каждый верный ответ. Всего 8 баллов.

Максимум за задание – 8 баллов.

8. Рассмотрите представленные изображения и запишите порядковые номера терминов и понятий, которые связаны с соответствующим изображением. Терминов и понятий дано больше, чем требуется в ответе. Ответ внесите в таблицу – запишите порядковые номера понятий/терминов под буквенными обозначениями соответствующих изображений.





Термины/понятия:

- 1) гиксосы
- 2) Луксор
- 3) папирус
- 4) Джосер
- 5) шадуф
- 6) Верхнее и Нижнее царство
- 7) Эхнатон
- 8) Гор
- 9) Александрия
- 10) сфинкс
- 11) Хапи
- 12) усыпальница
- 13) Бастет
- 14) Амон-Ра

Ответ.

Буквенное обозначение изображения	А	Б	В	Г
Порядковый номер термина/понятия	2, 14	6, 8	4, 12	10

+2 балла за каждое верное соотнесение.

-2 балла – за каждое неверное, но не ниже 0 баллов за задание.

Максимум за задание – 14 баллов.

Максимум за работу – 85 баллов.