



ВСЕРОССИЙСКАЯ ОЛИМПИАДА ШКОЛЬНИКОВ  
ПО ИСТОРИИ. 2019–2020 уч. г.  
МУНИЦИПАЛЬНЫЙ ЭТАП. 8 КЛАСС

***В заданиях 1–3 дайте один верный ответ. Ответы внесите в таблицу в бланке работы.***

**1.** Прочитайте представленный отрывок. Укажите имя князя, упомянутого в тексте.

«[**Князь**] переезжает через реку на некоторой скифской ладье и, сидя за веслом, грёб наравне с прочими, без всякого различия. Видом он был таков: среднего роста, с голубыми глазами, с плоским носом, с бритую бородою. Голова у него была совсем голая, но только на одной её стороне висел локон волос, означающий знатность рода...»


**2.** Укажите название древнерусской ювелирной техники, для которой характерно декорирование украшений небольшими шариками из драгоценных металлов.

**3.** Прочитайте отрывок из текста и укажите годы правления правителя, о котором идёт речь в тексте.

«И мы, великий царь, государь и великий князь [**имя**] всея Руси самодержец и нашего царьского величества сын великий государь царевич князь Федор всея Руси, челобитье его милостиво выслушали и, пожаловав его своим царским жалованьем; велели отпустить в Сургут, а из Сургута в Томскую волость <...> Бил нам челом Томские земли князек Тоян, что б нашему царскому величеству его Тояна пожаловать, велеть ему быть под нашею высокою рукою и велели бы в вотчине его в Томи поставить город. А место де в Томи угоже и пашенных людей устроить мочно, а ясашных де у него людей триста человек. И как де город поставят, и те де все ясачные люди придут к нашему царскому величеству, и ясак учнут платить».

**Максимум за задания 1–3 – 6 баллов.**

***Не забудьте перенести Ваши ответы в бланк работы!***



***В заданиях 4 и 5 выберите несколько верных ответов из предложенных. Ответы внесите в таблицу в бланке работы.***

**4.** Прочитайте представленный текст и выберите верные суждения.

«При святейшем патриархе Гермогене Московском и всея России, и при государеве присном приятеле, князе Михаиле Васильевиче Шуйском попущением Божьим по всей Русской земли протекаше огонь и меч. Поляки, и Литва, и Черкасы многие грады поймали, и веси попленили, и всюду еретицы Латинския веры нудящи православных христиан свет Евангельский оставити и с тьмой еретичества соединитися».


- 1) В тексте описывается период Смутного времени.
- 2) В тексте упоминается патриарх – отец будущего правителя России.
- 3) В тексте называется имя правителя Русского государства.
- 4) В тексте описывается распространение польско-литовскими интервентами католичества.
- 5) В тексте упоминается военачальник, снявший осаду с Троице-Сергиева монастыря.
- 6) Упомянутый в тексте князь Михаил Шуйский был «присным приятелем» Лжедмитрия I.

**5.** Ниже представлен список исторических деятелей. Выберите из них тех, кто участвовал в освоении и изучении Сибири.

- 1) А. Палицын
- 2) В. Поярков
- 3) С. Дежнёв
- 4) А. Ордин-Нащокин
- 5) И. Москвитин
- 6) В. Голицын

**Максимум за задания 4, 5 – 6 баллов.**

***Не забудьте перенести Ваши ответы в бланк работы!***



6. Перед вами перечень городов, основанных (или впервые летописно упомянутых) в трёх разных веках. Назовите века, когда были основаны (впервые упомянуты) эти города, и занесите данную информацию в таблицу. Под указанием века поставьте номера городов, основанных (впервые упомянутых) в соответствующем веке.

- 1) Москва
- 2) Псков
- 3) Ростов Великий
- 4) Юрьев-Польский
- 5) Кострома
- 6) Белгород
- 7) Смоленск
- 8) Чернигов
- 9) Изборск

**Максимум за задание – 9 баллов.**

7. Дайте краткое обоснование ряда (что объединяет перечисленные элементы с исторической точки зрения) и укажите, какой из элементов является лишним по данному основанию.

7.1. Феодор Блаженный, Дмитрий Углицкий, Иван Иванович, Симеон Гордый.

7.2. Донской монастырь, Данилов монастырь, Юрьев (Георгиевский) монастырь, Новодевичий монастырь.

**Максимум за задание – 6 баллов.**

8. Установите соответствие между событиями отечественной истории и событиями зарубежной истории, произошедшими в том же веке. Запишите выбранные цифры под соответствующими буквами в таблицу в бланке работы.

СОБЫТИЯ ОТЕЧЕСТВЕННОЙ  
ИСТОРИИ


- А) открытие Славяно-греко-латинской академии
- Б) основание Сергием Радонежским Троицкого монастыря
- В) строительство Китай-городской стены в Москве
- Г) смерть Дмитрия Шемяки в Новгороде

СОБЫТИЯ ЗАРУБЕЖНОЙ  
ИСТОРИИ

- 1) «Авиньонское пленение пап»
- 2) Варфоломеевская ночь во Франции
- 3) окончание Реконкисты в Испании
- 4) IV Крестовый поход
- 5) «Славная революция» в Англии

**Максимум за задание – 4 балла.**

***Не забудьте перенести Ваши ответы в бланк работы!***



9. Установите соответствие между присоединёнными территориями и правителями, при которых они вошли в состав государства. Запишите выбранные цифры под соответствующими буквами в таблицу в бланке работы.

ТЕРРИТОРИЯ

- А) Галич, Углич, Белоозеро
- Б) Нижний Новгород, Муром
- В) Переславль-Залесский, Коломна
- Г) Пермь Великая, Ярославль

ПРАВИТЕЛЬ

- 1) Василий I
- 2) Даниил Московский
- 3) Дмитрий Донской
- 4) Иван III
- 5) Иван I Калита

**Максимум за задание – 4 балла.**

10. Вашему вниманию представлен фрагмент из книги исследователя Р. Бейнтонна «На сем стою». Заполните пропуски, указав пропущенные имена, годы, термины, определения, пользуясь информацией около номера о характере требуемой вставки.

«...Его величество (**1 – имя и порядковый номер**) представил сократившемуся составу (**2 – законосовещательный орган**) последний проект **Вормского эдикта** (**3 – год принятия документа**).

**Мартин** (**4 – фамилия**) обвинялся в том, что, подобно **проклятым Церковью** (**5 – участники религиозного движения**), он отрицает семь (**6**).


Этот дьявол в монашеском обличье собрал воедино древние ереси в одну зловонную лужу и присовокупил к ним еще и новые. Его учение несёт с собой бунт, раскол, войну, убийство, разбой, поджог и крушение христианства. Мы давали ему двадцать один день, исчисляя от 15 апреля. Ныне мы избрали законодателей. Его должно рассматривать как осужденного (**7**), хотя (**8 – папский указ**) о его отлучении от (**9**) ещё не была обнародована...»

**Максимум за задание – 9 баллов.**

11. Перед вами фрагменты из знаменитого произведения русской средневековой литературы «Хождение за три моря» Афанасия Никитина. Фрагменты расположены в порядке, отличающемся от того, как они расположены в повествовании автора. Каждый фрагмент имеет римское цифровое обозначение. Названия некоторых городов, которые упоминает Никитин, обозначены в тексте арабскими цифрами. Дана карта-схема путешествия Никитина, на которой эти города обозначены буквами.


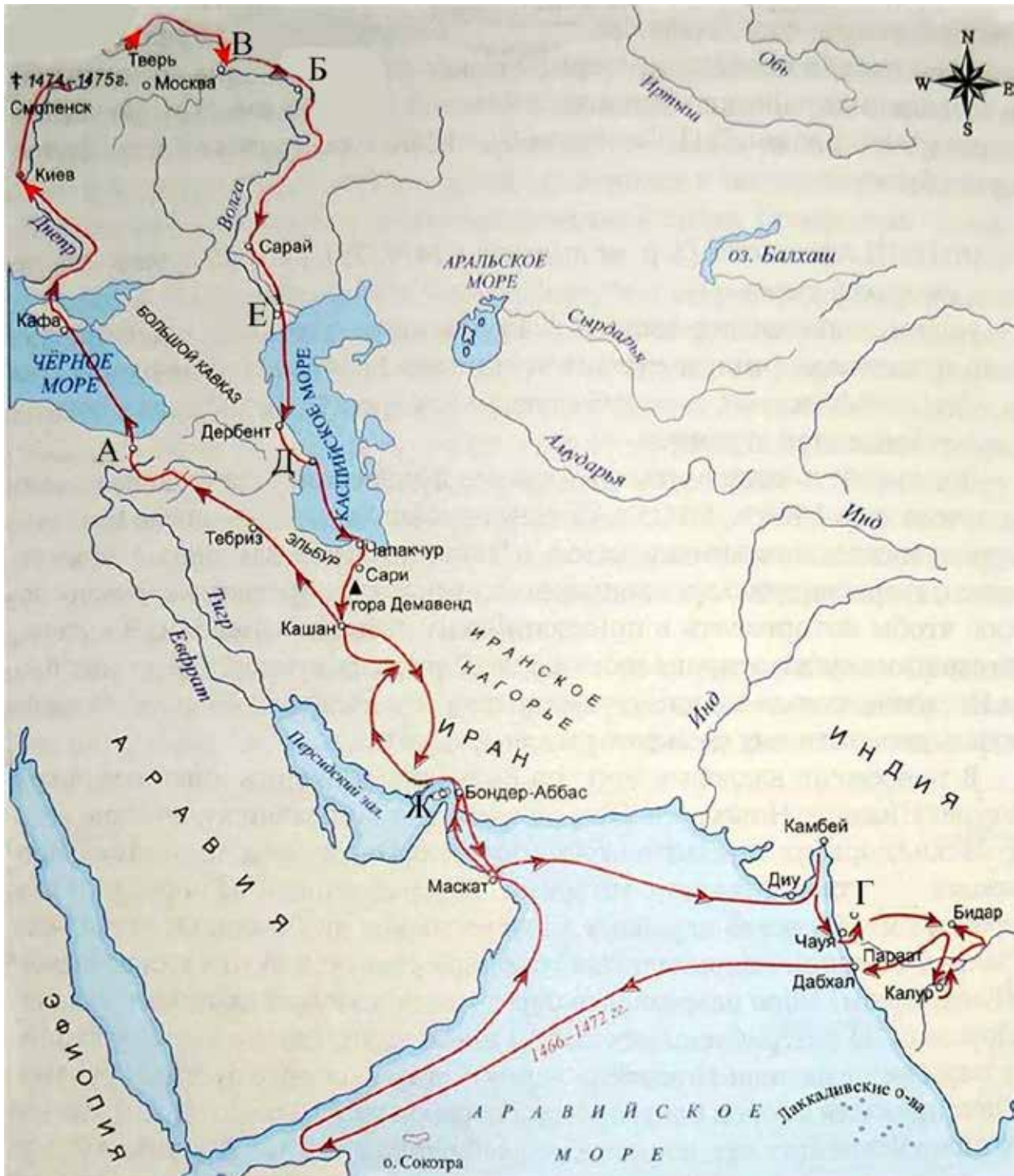
Внимательно ознакомьтесь с материалами и выполните предложенные задания.

11.1. Впишите цифровые обозначения городов из представленных фрагментов текста Никитина во вторую строку таблицы так, чтобы соответствующая цифра была напротив буквенного обозначения города на карте.



**11.2.** Восстановите правильную последовательность фрагментов текста Никитина в соответствии с ходом его путешествия и внесите их римские цифровые обозначения в таблицу.

Успешно выполнить задание вам поможет внимательное чтение каждого фрагмента и сопоставление фрагментов между собой и с обозначенным на карте-схеме путём Никитина.



**I.** В Трапезунд (1) же пришёл на Покров святой Богородицы и приснодевы Марии и был в нём пять дней. Пришёл на корабль и сговорился о плате – со своей головы золотой дать до Кафы.

**II.** А Ормуз (2) – на острове, и море наступает на него всякий день по два раза. Велик солнечный жар в Ормузе, человека сожжёт. В Ормузе был я месяц, а из Ормуза после Пасхи пошёл я за море Индийское.

**III.** И приехал я в Нижний Новгород (3) к Михаилу Киселёву, наместнику, и к пошленнику Ивану Сараеву, и отпустили они меня без препятствий.

**IV.** А я пошёл из Дербента в Баку (4), где огонь горит неугасимый; а из Баку пошёл за море – в Чапакур.

**V.** Поплыл я вниз по Волге. Казань (5) прошли без препятствий, не видали никого, и Орду, и Услан, и Сарай проплыли и вошли в Бузан.

**VI.** И я, грешный, привёз жеребца в Индийскую землю, и дошёл с ним до Джуннара, с Божьей помощью, здоровым. Зима у них началась с Троицына дня. Зимовал я в Джуннаре (6), жил тут два месяца. Каждый день и ночь – целых четыре месяца – всюду вода да грязь.


**VII.** Пльвём мы мимо Астрахани (7), а месяц светит, и царь нас увидел, и татары нам кричали: «Качма – не бегите!» А мы этого ничего не слышали и бежим себе под парусом.

**Максимум за задание – 12 баллов.**

**12.** Рассмотрите представленную статистику и выполните предложенные задания.

**Находки берестяных грамот на 2017 год**

<b>Населённый пункт</b>	<b>Количество находок</b>
[1]	1102
Рюриково городище	1
Старая Русса	48
Торжок	19
Тверь	5
Москва	4
Вологда	1
Старая Рязань	1



**12.1.** Заполните пропуск, обозначенный цифрой «1».


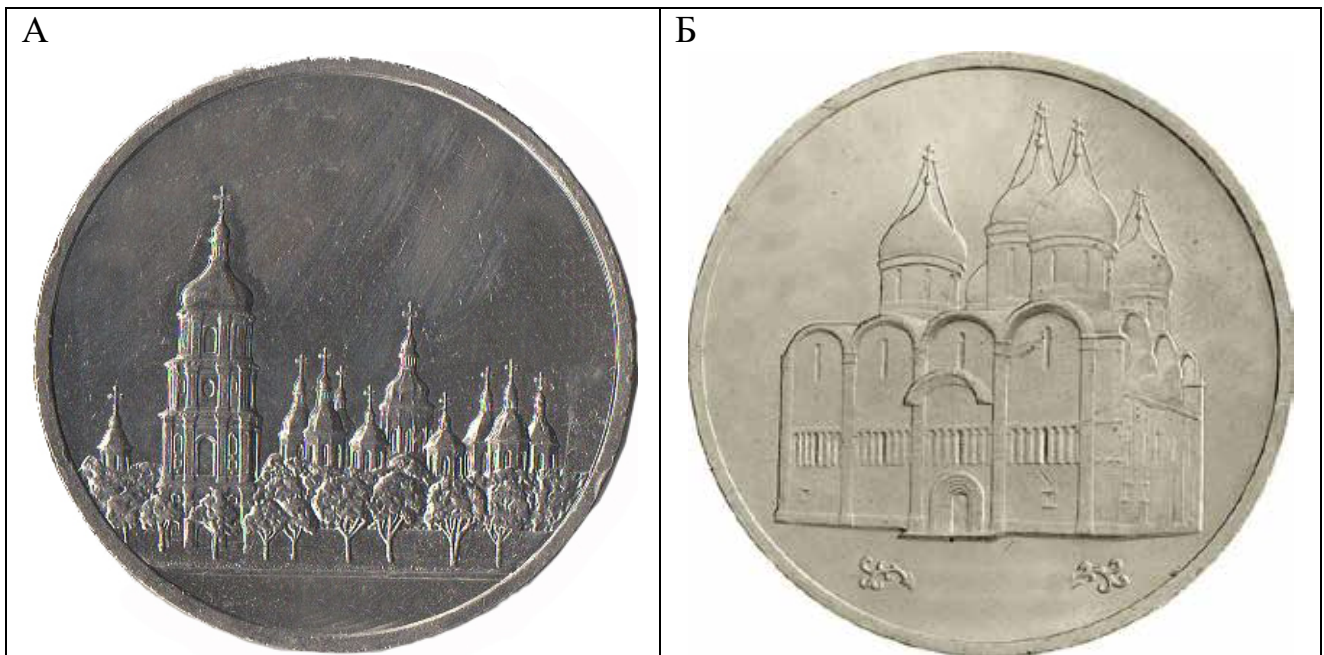
**12.2.** Укажите, где расположен населённый пункт Рюриково городище.

**12.3.** Укажите исторический регион (землю), в которой было найдено большинство берестяных грамот. Укажите их совокупное число согласно данным таблицы.


**12.4.** Укажите две причины, по которым в этой земле было найдено такое количество берестяных грамот.

**Максимум за задание – 10 баллов.**

**13.** Перед вами изображения юбилейных монет, посвящённых известным архитектурным памятникам. Сопоставьте памятник архитектуры с соответствующим ему историческим фактом. Укажите век, когда этот памятник архитектуры был создан. Ответы перенесите в таблицу в бланке работы: во вторую колонку таблицы запишите, какой памятник изображён на монете, в третью колонку таблицы запишите век, когда этот памятник был построен; в четвертую колонку запишите номер соответствующего факта.



Всероссийская олимпиада школьников по истории 2019–2020 уч. г.  
Муниципальный этап. 8 класс








### Исторические факты

- 1) Памятник построен в честь присоединения Казанского ханства к Русскому государству.
- 2) Это храм был домовым храмом московских князей и царей.
- 3) Этот памятник строился по образцу Версаля.
- 4) Этот храм был расписан артелью художников во главе с Гурием Никитиным.
- 5) В этом храме прошло венчание Ивана IV на царство.
- 6) Этот храм является усыпальницей московских князей и некоторых царей.
- 7) Памятник построен на следующий год после решающей победы над печенегами.

**Максимум за задание – 14 баллов.**

**14.** Внимательно изучите представленный ниже отрывок из «Большой Челобитной» Ивана Пересветова и ответьте на вопросы.

«Государю благоверному великому царю и великому князю Ивану Васильевичу всеа Руси бьёт челом холоп твой государев выезджей из Литвы Ивашко Семенов сын Пересветова... Ехал есми, государь, изо Угор на Валашскую землю и был есми пять месяц у Петра, у воеводы у Валашского, в Сочаве. И он про тебя, государя, про великого царя благовернаго, и про твоё царство государево говорит на всяк день <...> Да рек Пётр, волоский воевода, про Казанское царьство: Есть ли хотети Казанского царства добывати, ино призвав бога на помощь, и себя ни в чём не пощадети, послати войско на Казань, возрадивши сердца воинником своим царьскими жалованием и ласкою и



приветом добрым; а иныя воины удалыя послати на Улусы на казанския, да велети их жечи и людей сечи и пленити. Да бог помилует и помощь святую свою даст извоевати их да и крестити, то и крепко. А слышал есми про ту землю, про Казанское царство, у многих воинников, которые в царстве Казанском бывали, что про нея говорят, применяют ея к подрайской земле угодием великим. Да тому велми дивимся, что таковая земля не великая, велми угодная, у такового великаго силнаго царя под пазухою, а не в дружбе, а он ей долго терьпит и кручину от них великую принимает; хотя бы таковая земля угодная и в дружбе была, ино было ей не мочно терпети за такое угодие».

**14.1.** Назовите царя, к которому обращается Иван Пересветов.

**14.2.** Датируйте с точностью до пятилетия (год не ранее и не позднее) представленный источник.

**14.3.** Что такое «челобитная»?


**14.4.** На основании представленного текста укажите, на территории каких зарубежных государств был Иван Пересветов.

**14.5.** Как на основании представленного текста можно охарактеризовать сословное происхождение автора челобитной? Приведите три аргумента в подтверждение.

**14.6.** Каким образом Иван Пересветов аргументирует необходимость присоединения Казани к Московскому государству? Приведите два аргумента на основании текста.

**Максимум за задание – 20 баллов.**

**15.** Выберите фотографии, на которых запечатлены события периода Великой Отечественной войны 1941–1945 гг. Укажите их порядковые номера и назовите города, события в которых на них запечатлены.



3



4



5




6



7



8



9



10



**Максимум за задание – 10 баллов.**

**Максимум за работу – 110 баллов**

***Не забудьте перенести Ваши ответы в бланк работы!***

