



**ВСЕРОССИЙСКАЯ ОЛИМПИАДА ШКОЛЬНИКОВ**  
**ПО ОБЖ. 2019–2020 уч. г.**  
**МУНИЦИПАЛЬНЫЙ ЭТАП.**  
**10–11 КЛАССЫ**

**ОТВЕТЫ И КРИТЕРИИ ОЦЕНИВАНИЯ**


**Методика оценивания выполнения тестовых  
олимпиадных заданий теоретического тура**

<b>№ тестового задания</b>	<b>Максимальный балл</b>	<b>Порядок оценивания тестовых заданий</b>
1–10	2	За правильный ответ начисляется 2 балла. 0 баллов выставляется за неправильный ответ, а также если участником отмечены несколько ответов (в том числе правильный).
11–20	4	За каждый правильный ответ начисляется 2 балла. 0 баллов выставляется за неправильный ответ, а также если участником отмечены более двух ответов (в том числе правильные).
ИТОГО	60	Общий итоговый балл определяется суммой баллов, полученных за каждое тестовое задание.

**Таблица ответов на тестовые задания теоретического тура**

<b>№</b>	<b>а</b>	<b>б</b>	<b>в</b>	<b>г</b>	<b>№</b>	<b>а</b>	<b>б</b>	<b>в</b>	<b>г</b>	<b>д</b>
1			X		11		X	X		
2	X				12			X	X	
3				X	13		X		X	
4			X		14	X				X
5				X	15			X	X	
6				X	16	X				X
7				X	17			X		X
8	X				18			X	X	
9	X				19		X	X		
10	X				20	X				X


**Максимум за тестовые задания – 60 баллов.**



## ТЕСТОВЫЕ ЗАДАНИЯ

*Определите один правильный ответ.  
За правильный ответ начисляется 2 балла.*

- 1 **Горение каких веществ относится к пожару класса В?**
  - а) твёрдых
  - б) газообразных
  - в) жидких**
  - г) металлов
  
- 2 **Каким молодёжным увлечением НЕЛЬЗЯ заниматься ни при каких условиях?**
  - а) бейскламбинг**
  - б) паркур
  - в) бейсджампинг
  - г) айсклаймбинг
  
- 3 **Укажите краткую характеристику землетрясения в 2 балла.**
  - а) отмечается только сейсмическими приборами
  - б) распознаётся по лёгкому дребезжанию и колебанию предметов, посуды и оконных стёкол, скрипу дверей и стен. Внутри здания сотрясение ощущает большинство людей
  - в) ощущается всеми. Многие в испуге выбегают на улицу. Картины падают со стен. Отдельные куски штукатурки откалываются
  - г) отмечается сейсмическими приборами. Ощущается только отдельными людьми, находящимися в состоянии полного покоя на верхних этажах зданий, и очень чуткими домашними животными**
  
- 4 **Дегазация применяется для**
  - а) уничтожения возбудителей инфекционных болезней
  - б) удаления радиоактивных веществ
  - в) обезвреживания токсичных и опасных химических веществ**
  - г) уничтожения насекомых и клещей
  
- 5 **Укажите цветовое обозначение «критического» уровня террористической опасности**
  - а) оранжевый
  - б) жёлтый
  - в) алый
  - г) красный**




- 6 **Какой витамин предупреждает развитие рахита у детей раннего возраста и остеопороза у пожилых людей?**  
а) А  
б) В  
в) С  
г) D
- 7 **Характерным признаком тяжёлой черепно-мозговой травмы является**  
а) бледность кожи  
б) головокружение  
в) однократная рвота  
г) выделение кровянистой жидкости из ушей, носа
- 8 **Война, в которой преследуются ограниченные военно-политические цели, военные действия ведутся в границах противоборствующих государств, и которая затрагивает преимущественно интересы только этих государств, –**  
а) локальная война  
б) региональная война  
в) военный конфликт  
г) вооружённый конфликт
- 9 **Категория годности «Б» гражданина к военной службе обозначает**  
а) годен к военной службе с незначительными ограничениями  
б) ограниченно годен к военной службе  
в) временно не годен к военной службе  
г) не годен к военной службе
- 10 **Каков радиус убойного действия осколков ручной гранаты РГН?**  
а) 8,7 м  
б) 16,5 м  
в) 25 м  
г) 6,5 м

***Определите все правильные ответы.***

*За каждый правильный ответ начисляется 2 балла.*

- 11 **Какие группы знаков безопасности имеют геометрическую форму квадрата или прямоугольника?**  
а) предписывающие  
б) пожарной безопасности  
в) эвакуационные и медицинского и санитарного назначения  
г) предупреждающие  
д) запрещающие



- 12 **Какое значение имеет визуальный сигнал и к какому типу он относится?**  
а) «воздух–земля»  
б) отрицательно – «нет»  
в) «земля–воздух»  
г) «необходима медицинская помощь»  
д) утвердительно – «да»
- 13 **Какой уровень опасности и цветовое обозначение соответствует описанию «Наблюдаются или ожидаются в прогностический период негативные последствия для всех видов деятельности и жизнедеятельности населения»?**  
а) красный  
б) оранжевый  
в) второй  
г) третий  
д) жёлтый
- 14 **Противорадиационные укрытия создаются для**  
а) населения, не отнесенного к категориям по гражданской обороне, расположенных в зоне возможного радиоактивного заражения  
б) для работников наибольшей работающей смены организаций, отнесённых к категориям по гражданской обороне  
в) населения, проживающего на территориях, отнесённых к группам по гражданской обороне, находящихся за пределами зон возможного радиоактивного заражения  
г) для работников дежурной смены, расположенных за пределами зон возможного радиоактивного заражения  
д) работников организаций, не отнесённых к категориям по гражданской обороне, расположенных в зоне возможного радиоактивного заражения
- 15 **Какие из указанных организаций являются террористическими?**  
а) Коммунистический союз молодёжи  
б) «Ахульго»  
в) «Джебхат ан-Нусра»  
г) «Лашкаре-Тайба»  
д) «Харон»
- 16 **В каких случаях у человека происходит формирование активного приобретённого иммунитета?**  
а) после перенесённого инфекционного заболевания  
б) вследствие закаливания организма  
в) вследствие применения витаминов  
г) в результате занятий физической культурой  
д) после профилактических прививок



- 17 **Какие из перечисленных признаков являются характерными для инсульта?**  
а) боль за грудиной  
б) одышка  
**в) нарушение речи**  
г) кашель  
д) асимметрия лица
- 18 **Какие рода войск входят в состав Сухопутных войск РФ?**  
а) береговые войска  
б) войска ПВО-ПРО  
**в) инженерные войска**  
г) войска противовоздушной обороны  
д) воздушно-десантные войска
- 19 **От призыва на военную службу в мирное время освобождаются граждане,**  
а) признанные годными к военной службе с незначительными ограничениями по состоянию здоровья  
**б) признанные ограниченно годными к военной службе по состоянию здоровья**  
в) прошедшие альтернативную гражданскую службу  
г) прошедшие военную службу в любом другом государстве  
д) имеющие учёную степень
- 20 **Военнослужащий держит снятый головной убор**  
а) в левой свободно опущенной руке  
б) кокардой назад  
в) в правой свободно опущенной руке  
г) кокардой вниз  
д) кокардой вперёд

**Максимум за тестовые задания – 60 баллов.**



## ТЕОРЕТИЧЕСКИЕ ЗАДАНИЯ

### Задание 1

Водитель транспортного средства перед выездом обязан проверить техническое состояние транспортного средства.

А. Укажите, чем должен быть оборудован велосипед.

Б. Что должно находиться у велосипеда в исправном состоянии перед выездом.

**Ответ:**

**А.**


1. звуковым сигналом
2. спереди оборудован световозвращателем и фонарём или фарой белого цвета, сзади – световозвращателем или фонарём красного цвета
3. с каждой боковой стороны – световозвращателем оранжевого или красного цвета

**Б.**

1. тормоза
2. руль (рулевое управление)

**Оценка задания.** Максимальная оценка за правильно выполненное задание – **10 баллов**, при этом:

- за каждый правильный ответ в части А и в части Б начисляется по **2 балла** (допускаются иные формулировки пунктов, не искажающие их смысла);
- при отсутствии правильных ответов баллы не начисляются.



## Задание 2

По воздействию на организм человека АХОВ можно разделить на группы.

Соотнесите название вещества и группы, к которой это вещество относится.

Ответ запишите в таблицу.

	Название вещества
<b>А</b>	хлор, фосген
<b>Б</b>	оксид углерода, синильная кислота
<b>В</b>	сернистый ангидрид, сероводород
<b>Г</b>	оксид этилена, сероуглерод
<b>Д</b>	аммиак, ацетонитрил


	Группа
<b>1</b>	Вещества общеядовитого действия
<b>2</b>	Нейротропные яды, т.е. вещества, воздействующие на генерацию и передачу нервного импульса
<b>3</b>	Вещества, обладающие удушающим и общеядовитым действием
<b>4</b>	Вещества с преимущественно удушающим действием
<b>5</b>	Вещества, обладающие удушающим и нейротропным действием

**Ответ:**

<b>А</b>	<b>Б</b>	<b>В</b>	<b>Г</b>	<b>Д</b>
4	1	3	2	5

**Оценка задания.** Максимальная оценка за правильно выполненное задание – **10 баллов**, при этом:

- за правильный ответ по каждой из пяти позиций, указанных в варианте ответа, начисляется по **2 балла**;
- при отсутствии правильных ответов баллы не начисляются.



### Задание 3


Укажите название стрелкового оружия Вооружённых Сил Российской Федерации.

Ответ:

<b>А</b> Изображение стрелкового оружия	<b>Б</b> Название
1. 	<b>пистолет «Гюрза»</b>
2. 	<b>снайперская винтовка «Винторез»</b>
3. 	<b>пистолет Макарова</b>
4. 	<b>автомат Калашникова-74М</b>
5. 	<b>пулемёт Калашникова модернизированный</b>

**Оценка задания.** Максимальная оценка за правильно выполненное задание – **10 баллов**, при этом:

- за правильный ответ по каждой из пяти позиций, указанных в варианте ответа, начисляется по **2 балла**;
- при отсутствии правильных ответов баллы не начисляются.





#### Задание 4

Вы идёте по улице с приятелем и видите лежащего человека без явных признаков жизни (признаки биологической смерти отсутствуют).

А. Впишите пропущенные слова и цифры.

**Ответ:**

А. 1) проверить наличие признаков жизни, к которым относятся:

а) наличие (отсутствие) **сознания**;

б) наличие (отсутствие) **пульса**;

в) наличие (отсутствие) **дыхания**;

2) при отсутствии признаков жизни приступить к проведению сердечно-лёгочной реанимации, т.е. выполнить:

3) искусственное дыхание (**2 вдоха**), предварительно обеспечив проходимость дыхательных путей;

4) при появлении признаков жизни после проведения сердечно-лёгочной реанимации или при первоначальном их наличии у пострадавшего перевести пострадавшего **в устойчивое боковое** положение;

5) **30** давлений на грудину пострадавшего;

б) оценить обстановку, обеспечить безопасные условия для оказания первой помощи;

7) контролировать признаки жизни до приезда скорой медицинской помощи;

8) попросить приятеля вызвать скорую медицинскую помощь.

Б. Расположите действия по оказанию первой помощи в порядке их выполнения. Запишите цифры, которыми обозначены действия, в правильной последовательности.

**Ответ:** 61825347

**Оценка задания.** Максимальная оценка за правильно выполненное задание – **10 баллов**, при этом:

- за каждый правильный ответ в части А (заполнение одного пропуска в тексте) начисляется по **1 баллу**;
- за правильную последовательность действий начисляется **4 балла**;
- при отсутствии правильных ответов баллы не начисляются.

**Максимум за работу – 100 баллов.**

