

**ВСЕРОССИЙСКАЯ ОЛИМПИАДА ШКОЛЬНИКОВ
ПО ОБЖ 2018–2019 уч. г.
ШКОЛЬНЫЙ ЭТАП**

5–6 классы

Уважаемый участник!

При выполнении заданий Вам предстоит выполнить определённую работу, которую лучше организовать следующим образом:

- внимательно прочитайте задание;
- если Вы отвечаете на теоретический вопрос или решаете ситуационную задачу, обдумайте и сформулируйте конкретный ответ (ответ должен быть кратким, и его содержание следует вписать в отведённое поле; пишите чётко и разборчиво);
- при ответе на тестовые задания определите верный ответ и обведите кружком букву (буквы), соответствующую(-ие) выбранному Вами ответу.

За каждый правильный ответ Вы можете получить определённое членами жюри количество баллов, не выше указанной максимальной оценки.

Сумма набранных баллов за все решённые вопросы в двух форматах – итог Вашей работы. Максимальное количество баллов – 200.

Задания считаются выполненными, если Вы вовремя сдали их членам жюри.

Желаем успеха!

Тестовые задания

Определите один правильный ответ.

За правильный ответ начисляется 4 балла.

1. **Правилами купания в водоёмах запрещается**
 - а) плавать в местах, где большая глубина
 - б) плавать в водоёмах с температурой воды ниже 20 °С
 - в) заплывать за буйки
 - г) плавать в водоёмах с течением

2. **Непрерывная работа школьника за компьютером не должна превышать**
 - а) 5 минут
 - б) 20 минут
 - в) 40 минут
 - г) 1 час

3. **Ночью определить стороны света можно по Полярной звезде. Перпендикуляр проведённый к земле от Полярной звезды, покажет Вам направление на**
 - а) север
 - б) юг
 - в) запад
 - г) восток

4. **Разъясните содержание сигнала «Внимание всем!»**
 - а) предупреждает население о непосредственной угрозе нападения противника
 - б) подаётся с целью предупредить население о необходимости принять меры защиты от радиоактивных веществ
 - в) подаётся с целью предупредить население об аварии, катастрофе, стихийном бедствии
 - г) извещает население о том, что непосредственной угрозы аварии, катастрофы, стихийного бедствия больше нет

5. **Гроза застала туриста в лесу. Какое место для укрытия будет наиболее безопасным?**
- а) под большим мощным деревом
 - б) участок низкорослого леса, вдали от сосен, дубов и тополей
 - в) в центре поляны
 - г) на окраине леса
6. **Определите ошибочный пункт в перечне правил безопасного поведения при возникновении пожара в троллейбусе.**
- а) привлечь внимание пассажиров к возгоранию
 - б) закрыть нос и рот рукавом одежды
 - в) выбить стёкла ногами
 - г) покинуть салон через окно аккуратно, сползая по стенке и ставя одну ногу на носок
7. **День солидарности в борьбе с терроризмом отмечается**
- а) 3 сентября
 - б) 2 сентября
 - в) 8 сентября
 - г) 1 сентября
8. **Верны ли приведённые суждения об утомлении?**
- А) Утомление – это временное снижение работоспособности.**
Б) Признаки утомления исчезают после короткого отдыха.
- а) верно только А
 - б) верно только Б
 - в) верны оба суждения
 - г) оба суждения неверны
9. **По какому номеру телефона есть возможность вызвать скорую медицинскую помощь даже при отсутствии денежных средств на вашем счёте, при заблокированной SIM-карте и при отсутствии SIM-карты телефона?**
- а) 103
 - б) 102
 - в) 104
 - г) 112
10. **Какой из способов остановки кровотечения является основным при венозном кровотечении?**
- а) наложение жгута
 - б) пальцевое прижатие артерии
 - в) максимальное сгибание конечности
 - г) наложение давящей повязки

Определите все правильные ответы.

За каждый правильный ответ начисляется 4 балла.

11. **В случае наличия элементов дороги, предназначенной для передвижения пешехода, он имеет право передвигаться по**
 - а) тротуару
 - б) обочине
 - в) велосипедной дорожке
 - г) пешеходной дорожке
 - д) краю проезжей части

12. **К первичным средствам пожаротушения относят**
 - а) переносные и передвижные огнетушители
 - б) системы оповещения о пожаре
 - в) спринклерные системы автоматического пожаротушения
 - г) покрывала для изоляции очага возгорания
 - д) дренчерные системы автоматического пожаротушения

13. **Признаками ухудшения погоды могут служить**
 - а) перистые облака
 - б) волнистые (высококучевые) облака
 - в) повышение давления
 - г) вечерняя заря ярко-красного цвета
 - д) изменения направления ветра, уменьшения его скорости

14. **Укажите правила безопасного поведения при сильной жаре.**
 - а) надевать лёгкую светлую одежду из синтетических тканей
 - б) стараться двигаться быстро, уменьшая время открытого нахождения на солнце
 - в) употреблять больше воды
 - г) использовать свободную воздухопроницаемую одежду из хлопка
 - д) чаще пить газированные напитки

15. **Выберите признаки изменения ненастной погоды на ясную.**
 - а) температура воздуха понижается
 - б) осадки временами усиливаются; во время дождя появляется радуга
 - в) давление низкое, в течение суток не меняется
 - г) солнце садится за тучи, заря красная, ночью звёзд и луны не видно или вокруг них наблюдается венец
 - д) соцветия растений закрыты и опущены

16. **Какие рекомендации по безопасному поведению целесообразно выполнять при аварии на взрывоопасном объекте?**
- а) дверь в задымлённое помещение открывать быстро, рывком
 - б) для ускорения покидания объекта воспользоваться лифтом
 - в) при выходе из здания по задымлённой лестнице продвигаться вдоль стены
 - г) при загорании одежды быстро бежать к выходу из здания
 - д) выходить из зоны пожара в наветренную сторону
17. **По каким из указанных номеров телефонов возможно сообщить в правоохранительные органы в случае обнаружения подозрительного предмета?**
- а) 101
 - б) 04
 - в) 112
 - г) 103
 - д) 02
18. **Что из перечисленного относится к пищевым веществам?**
- а) хлеб
 - б) масло
 - в) витамины
 - г) рыба
 - д) углеводы
19. **Какие признаки, наблюдаемые ниже места наложения жгута (кроме остановки кровотечения), свидетельствуют о том, что жгут наложен правильно?**
- а) отёк конечности
 - б) побледнение кожи конечности
 - в) синюшный оттенок кожи
 - г) отсутствие пульса
 - д) онемение конечности в течение первых пяти минут
20. **При каких видах травм может наблюдаться укорочение повреждённой конечности?**
- а) ушиб
 - б) растяжение
 - в) разрыв связок
 - г) перелом
 - д) вывих

Максимум за задания 120 баллов.






Теоретические задания

Задание 1

Впишите в таблицу название опознавательных знаков для транспортных средств, соответствующих изображению:

«Опасный груз», «Крупногабаритный груз», «Длинномерное транспортное средство», «Ограничение скорости», «Перевозка детей».

Ответ:

Максимум за задание 20 баллов.

Задание 2

Разработайте памятку из пяти пунктов по безопасному поведению на случай внезапного землетрясения.

Максимум за задание 20 баллов.

Задание 3

Опишите правила поведения из пяти пунктов при обнаружении подозрительной вещи (предмета).

Максимум за задание 20 баллов.

Задание 4

Укус змеи (гадюки) часто происходит, когда человек находится в условиях автономного пребывания и не может быстро обратиться за медицинской помощью, поэтому так важно быстро и правильно оказать первую помощь.

Укажите, какие мероприятия первой помощи необходимо выполнить при укусе змеи (гадюки), а какие действия выполнять запрещается. Впишите букву, соответствующую мероприятию первой помощи, в нужную графу таблицы.

Мероприятия:

- А) создать покой пострадавшей части тела, конечность иммобилизовать
- Б) сделать надрез в месте укуса
- В) прижечь место укуса
- Г) наложить тугую повязку
- Д) наложить жгут выше места укуса
- Е) приложить холод на место укуса
- Ж) разрешить пострадавшему выполнять физические нагрузки
- З) дать пострадавшему обильное питье

Ответ:

Необходимо	Запрещается

Максимум за задание 20 баллов.

Максимум за работу 200 баллов.