

## ОТВЕТЫ НА ЗАДАНИЯ ТРЕТЬЕГО (ТЕСТОВОГО) ТУРА

Правильные ответы выделены жирным шрифтом.

1. Какая горная вершина в первой половине XIX века была высочайшей точкой Российской империи?
  - А. Денали
  - Б. Пик Исмоила Сомони
  - В. Ключевская Сопка
  - Г. Эльбрус
  
2. Вблизи каких островов температура поверхностных вод Мирового океана самая высокая?
  - А. Острова Баунти
  - Б. Архипелаг Бисмарка
  - В. Острова Королевы Елизаветы
  - Г. Острова Хуан-Фернандес
  
3. В каком возрасте различие в численности женщин и мужчин в России наименьшее?
  - А. 1 год
  - Б. 15 лет
  - В. 30 лет
  - Г. 60 лет
  
4. Территория какого современного государства никогда официально не входила в состав Австро-Венгерской империи?
  - А. Боснии и Герцеговины
  - Б. Бывшей югославской Республики Македония
  - В. Хорватии
  - Г. Чехии
  
5. Как называются летние пастбища в альпийском и субальпийском поясах гор Средней Азии?
  - А. Аласы
  - Б. Джайляу
  - В. Полонины
  - Г. Тугай

6. Какой из четырёх городов США расположен на более высокой широте, чем Сочи?

А. Бостон

**Б. Сиэтл**

В. Сан-Франциско

Г. Чикаго

7. В каком из четырёх субъектов Российской Федерации больше половины всего населения сосредоточено в его административном центре?

А. Кемеровская область

Б. Нижегородская область

**В. Омская область**

Г. Самарская область

8. Какая из столиц расположена на большем удалении от морского побережья?

А. Вьентьян

Б. Ла-Пас

В. Прага

**Г. Уагадугу**

9. Какой путешественник дал местности на берегах реки Святого Лаврентия название «Канада»?

А. Джованни да Вераццано

Б. Джордж Ванкувер

**В. Жак Картье**

Г. Лейф Эрикссон

10. Самолёт вылетел из Апия (UTC+13)\* 10 апреля в 13:00, пересёк линию перемены дат и через три часа приземлился в Папеезе (UTC−10). Когда он прибыл на аэродром назначения?

**А. 9 апреля в 17:00**

Б. 10 апреля в 17:00

В. 8 апреля в 17:00

Г. 11 апреля в 17:00

\* UTC — так называемое Всемирное координированное время, современный аналог среднего времени по Гринвичу; +13/−10 — разница с этим временем в часах.

11. По валовому сбору какой сельскохозяйственной культуры Китай занимает второе место в мире?

- А. Виноград
- Б. Картофель
- В. Кукуруза (на зерно)**
- Г. Хлопчатник

12. В результате какого процесса образовались фавелы Рио-де-Жанейро и басты Калькутты?

- А. Дезурбанизация
- Б. Ложная урбанизация**
- В. Субурбанизация
- Г. Эксурбанизация

13. Какая информация никогда не отражается на топографических картах?

- А. Видовой состав кустарниковой растительности**
- Б. Грузоподъёмность мостов
- В. Количество жителей в населённых пунктах
- Г. Проходимость болот

14. Как называются линии на карте, соединяющие точки с равной скоростью, или с одинаковыми значениями амплитуды неотектонических движений?

- А. Изоанемоны
- Б. Изобары
- В. Изобаты
- Г. Изобазы**

15. Какой город находится в ареале естественного произрастания араукарии?

- А. Анталья
- Б. Валенсия
- В. Вальпараисо**
- Г. Филадельфия

16. Какая из научных антарктических станций расположена в глубине континента?

А. Академик Вернадский

**Б. Амундсен-Скотт**

В. Дюмон-д'Юрвиль

Г. Мак-Мердо

17. В пределах какой природной зоны на территории России добывается бóльшая часть нефти?

А. Тундра

Б. Лесотундра

**В. Тайга**

Г. Лесостепь

18. В каком городе 15 июля солнце восходит позже, чем в остальных?

А. Бостон

Б. Бишкек

**В. Бразилиа**

Г. Брянск

19. Какая пустыня относится к типу солончаковых?

**А. Деште-Кевир**

Б. Карру

В. Мохаве

Г. Такла-Макан

20. Какой из четырёх городов в 1900 году входил в первую десятку мировых лидеров по количеству жителей?

А. Каир

Б. Мехико

**В. Париж**

Г. Рим

21. Что можно было бы наблюдать в Москве, если предположить, что угол наклона плоскости экватора к плоскости эклиптики в два раза больше нынешнего?

А. Зимнее солнцестояние 22 июня

**Б. Полярный день**

В. Полярная звезда в зените

Г. Солнце в зените

22. Какое из четырёх морей отличается наиболее мощным и длительно сохраняющимся ледовым припаем?

А. Баренцево море

**Б. Восточное-Сибирское море**

В. Норвежское море

Г. Море Скоша (Скотиа)

23. Какие три памятника из списка объектов Всемирного наследия ЮНЕСКО расположены на одном материке?

**А. Альгамбра, Аюттхая (Аюттайя), Кутб-Минар**

Б. Абу-Симбел, Боробудур, Керкуан

В. Паленке, Ору-Прету, Чавин

Г. Персеполь, Тассилин-Аджер, Эль-Джем

24. Какой способ **НЕ** используют для изображения рельефа местности на картах?

А. Штрихи

Б. Изолинии с послойной окраской

**В. Качественный фон**

Г. Перспективный рисунок

25. Какое из четырёх озёр самое мелкое?

А. Балхаш

Б. Виннипег

В. Ньяса

**Г. Эйр**

26. Какое из утверждений о Средней Сибири верно?

- А. Число дней со снежным покровом в регионе не превышает 180 дней.
- Б. Долины рек глубоко врезаны и могут иметь несколько террас.**
- В. Термоабразия — редкое для региона явление.
- Г. На территории региона расположено только одно вулканическое плато.

27. Какой город расположен на территории с максимальной мощностью осадочных пород?

- А. Курск
- Б. Новосибирск**
- В. Петрозаводск
- Г. Петропавловск-Камчатский

28. Какая островная территория **НЕ** является заморским сообществом Франции?

- А. Сен-Бартельми
- Б. Сен-Мартен
- В. Сен-Пьер и Микелон
- Г. Сент-Люсия**

29. В окрестностях какого города можно увидеть тип рельефа, схематически изображённый на рисунке I?

- А. Бахчисарай**
- Б. Беломорск
- В. Березники
- Г. Бийск

На рисунке обозначены:

- 1 – пласты податливых пород;
- 2 – стойкие породы;
- К – консеквентная долина;
- С – субсеквентные долины;
- Р – ресеквентные долины


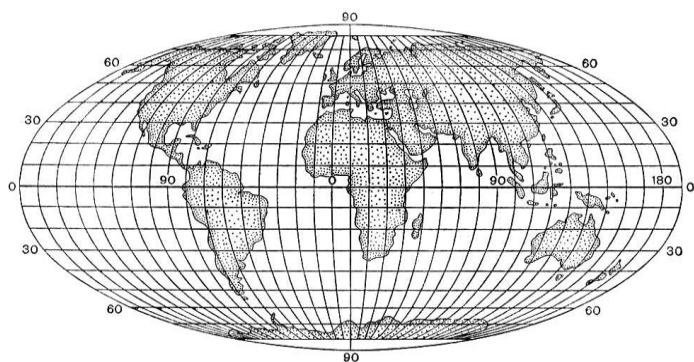
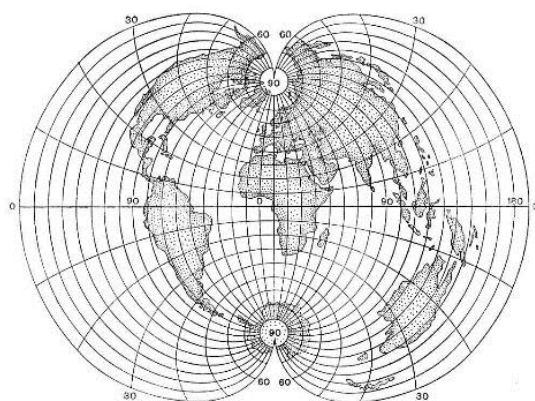


Рисунок I.

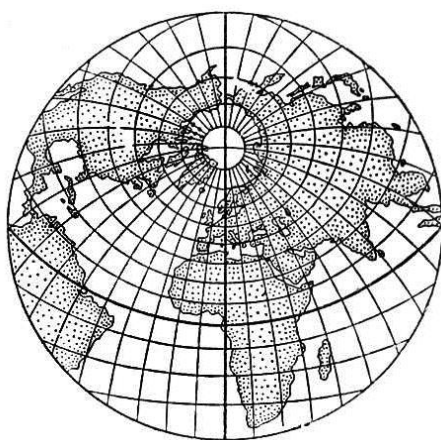
30. Какая из изображённых на рисунках А—Г картографических проекций является псевдоцилиндрической и считается наиболее удобной для изображения океанов?



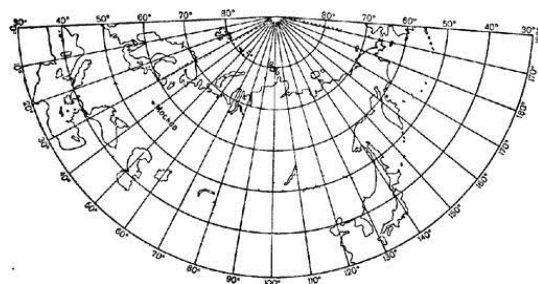
А.



Б.



В.



Г.