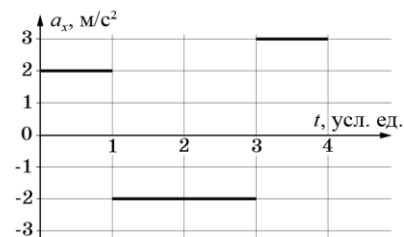


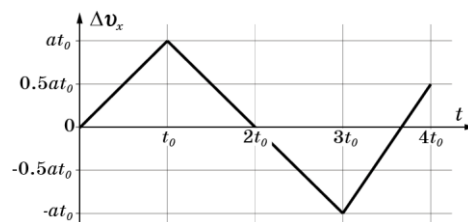
9 класс

Задача 1. До остановки. Две частицы движутся вдоль оси Ox . Зависимости их ускорения a_x от времени оказалась одинаковыми (см. рис.). За все время наблюдений проекция скорости v_x каждой из частиц ровно один раз обращалась в ноль, а пройденные ими пути отличались на $\Delta S = 16$ см. Определите пути S_1 и S_2 , пройденные частицами, и время τ их движения.



Возможное решение

Обозначим за t_0 и a время движения и ускорение на первом участке. Построим график изменения скорости от времени $\Delta v(t)$ (см. рис.). Отметим, что единственная остановка ($v = 0$) за время наблюдения будет если сместить график на $v_0 = \pm at_0$. В других случаях будет две или три остановки.



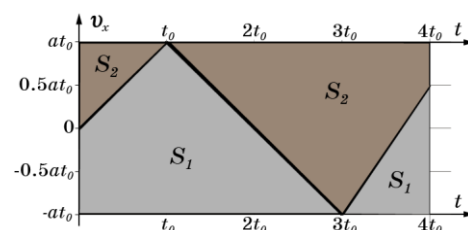
Совместим на одном графике две площади, соответствующие путям двух частиц. Вычисление площадей даст:

$$S_1 = 4,25at_0^2$$

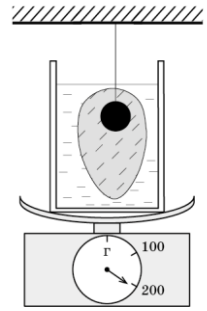
$$S_2 = 3,75at_0^2$$

$$\Delta S = 0,5at_0^2 = 16 \text{ см}$$

Откуда $t_0 = 0,4$ с, всё время движения $\tau = 4t_0 = 1,6$ с; $S_1 = 1,36$ м; $S_2 = 1,2$ м.



Задача 2. «Наморозили». На весах установлен калориметр с водой при температуре $t_0 = 0^\circ\text{C}$. Весы показывают при этом $m_1 = 100$ г. В воду опускают стальной шарик, закрепленный на нити с намерзшим на нем толстым слоем льда, который полностью погружен в воду. Показания весов увеличивается до значения $m_2 = 201,3$ г. После установления теплового равновесия в калориметре (на этом этапе теплообменом с окружающей средой можно пренебречь), показания весов ещё немного возрастают до $m_3 = 204,45$ г. Через большой промежуток времени, когда содержимое калориметра нагрелось до комнатной температуры, весы показали $m_4 = 191,3$ г. Определите массу m_c стального шарика, массу m_l льда на нём перед опусканием в калориметр, их температуру t перед погружением в воду. Удельная теплоемкость стали $c_c = 450$ Дж/кг \cdot °C, удельная теплоемкость льда $c_l = 2100$ Дж/(кг \cdot °C) удельная теплота плавления льда $\lambda = 3,4 \cdot 10^5$ Дж/кг, плотность стали $\rho_c = 7800$ кг/м 3 , льда $\rho_l = 900$ кг/м 3 , воды $\rho_v = 1000$ кг/м 3 .



Возможное решение.

Показания весов при погружении тела на нити увеличиваются за счёт силы Архимеда действующей на это тело. Поэтому сразу после опускания шарика со льдом в воду:

$$m_2 = m_1 + \left(\frac{m_c}{\rho_c} + \frac{m_l}{\rho_l} \right) \rho_v \quad (1)$$

После установления теплового равновесия показания весов увеличились из-за дополнительно намёрзшего льда массой Δm_l . При этом в сосуде устанавливается температура 0°C и можно записать уравнение теплового баланса:

$$\Delta m_l \lambda + (c_c m_c + c_l m_l) t = 0 \quad (2)$$

Показания весов при этом увеличатся:

$$m_3 - m_2 = \frac{\Delta m_l}{\rho_l} \rho_v - \Delta m_l = \frac{\rho_v - \rho_l}{\rho_l} \Delta m_l \quad (3)$$

После того как весь лёд растает показания весов P_4 по сравнению с P_2 уменьшатся из-за уменьшения силы Архимеда, но увеличатся за счёт увеличения количества воды на m_l :

$$m_2 - m_4 = \frac{m_l}{\rho_l} \rho_v - m_l = \frac{\rho_v - \rho_l}{\rho_l} m_l \quad (4)$$

Из этого уравнения получаем начальную массу льда:

$$m_l = \frac{m_2 - m_4}{\rho_v - \rho_l} \rho_l = 90 \text{ г}$$

Теперь из уравнения (1) можно найти массу стального шарика:

$$m_c = \frac{\rho_c}{\rho_v} \left(m_2 - m_1 - \frac{m_l}{\rho_l} \rho_v \right) \approx 10,1 \text{ г}$$

Из (3) находим массу дополнительно намёрзшего льда:

$$\Delta m_l = (m_3 - m_2) \frac{\rho_l}{\rho_v - \rho_l} \approx 28,4 \text{ г}$$

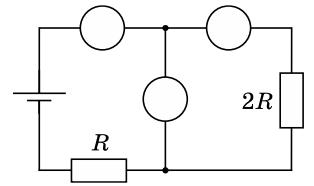
Наконец, из (2) определим начальную температуру льда и шарика:

$$t = - \frac{\Delta m_l \lambda}{c_c m_c + c_l m_l} \approx -49,9^\circ\text{C}$$

Примечание. При подстановке численных значений в условие плавления получается, что лёд с шариком должен всплывать. Но, во-первых, в условии задачи оговорено, что шарик со льдом полностью погружены в воду, и участники олимпиады должны исходить из этого. Во-вторых, даже если лёд с шариком плавают, то лёд выступает из воды лишь на малую часть своего объема, и это практически не влияет на численный ответ (получается разница $\sim 1\%$).

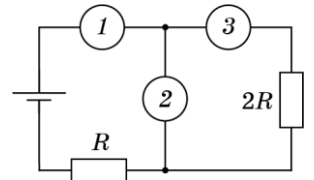
22 января на портале <http://abitru.net/vseros> будет проведён онлайн-разбор решений задач теоретического тура. Начало разбора (по московскому времени): 7 класс – 11.00; 8 класс – 12.00; 9 класс – 13.00; 10 класс – 14.30; 11 класс – 16.00.

Задача 3. Пропавшие приборы. Миша собрал электрическую цепь, состоящую из идеального источника, двух резисторов, двух амперметров и одного вольтметра. Но второпях он забыл расставить на схеме обозначения приборов, зато точно запомнил, что один из амперметров показывал силу тока $I = 1,0$ мА, а вольтметр – напряжение $U = 1,2$ В. Восстановите обозначения приборов. Дайте обоснование. Определите показания второго амперметра, сопротивления резисторов и напряжение источника U_0 . Все приборы можно считать идеальными.

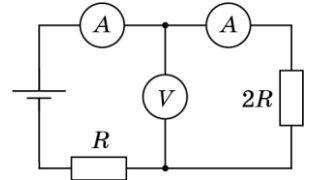


Возможное решение.

Прежде всего, определим, где какой прибор подключен. Если в положении «1» будет стоять идеальный вольтметр, то цепь будет разомкнута и показания амперметров будут нулевыми, что не удовлетворяет условиям задачи. Значит в положение «1» стоит амперметр. Теперь если в положение «3» поставить вольтметр, а в «2» поставить другой амперметр, то последний закоротит участок цепи с вольтметром. Тогда показания вольтметра будут нулевыми, что не удовлетворяет условиям задачи.



Значит, правильная схема приведена на нижнем рисунке.



В этой схеме амперметры подключены последовательно. Это означает, что их показания одинаковы и равны общему току в цепи:

$$I_{A1} = I_{A2} = I = 1,0 \text{ мА}$$

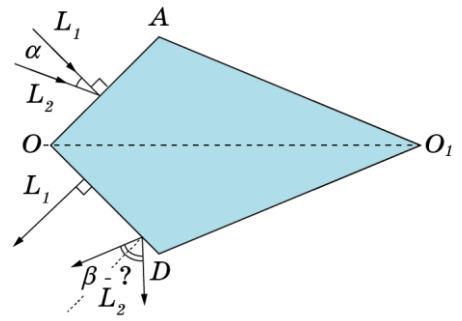
Такой же ток течёт через резистор $2R$, напряжение на нём показывает вольтметр. По закону Ома $2R = \frac{U}{I} = 1200$ Ом, и $R = 600$ Ом.

Сила тока через резистор R так же равна I , следовательно, падение напряжения на нём $U_R = IR = 0,6$ В

Напряжение источника равно сумме падений напряжений на резисторах.

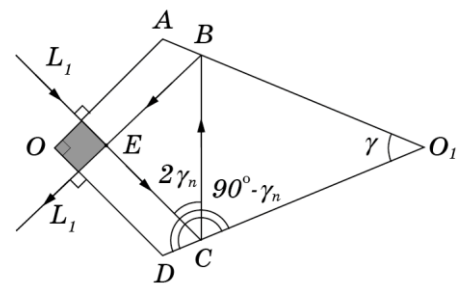
$$U_0 = U_R + U_{2R} = 1,8 \text{ В}$$

Задача 4. Тетрагон. Основание стеклянной призмы имеет форму четырёхугольника OAO_1D (см. рисунок). Угол AOD – прямой. Призма симметрична относительно плоскости, содержащей OO_1 и перпендикулярной основанию. Луч L_1 нормально падает на грань OA и после отражений на гранях DO_1 и AO_1 выходит через грань OD так же под прямым углом к ней. Луч L_2 падает на грань OA под углом α . Под каким углом β относительно нормали к грани OD он выйдет из призмы после отражений на гранях DO_1 и AO_1 ? Все лучи и перпендикуляры к граням призмы лежат в плоскости OAO_1D .

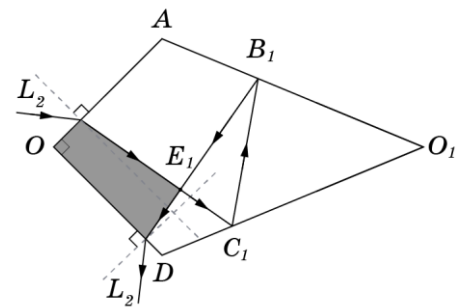


Возможное решение.

Построим ход L_1 . Нормально падающие лучи не преломляются на границе раздела сред. Значит, ход лучей симметричен относительно OO_1 , и луч дважды пересекает эту линию в точке E . Треугольник BEC прямоугольный и равнобедренный, значит углы EBC и ECB по 45° , значит углы падения и отражения лучей на гранях будут по $\gamma_n = 22,5^\circ$. Тогда, из четырёхугольника EBO_1C угол $\gamma = 45^\circ$.



Построим ход отклонённого луча. Отметим, что сумма углов AB_1C_1 и DC_1B_1 равна сумме углов ABC и DCB (сумма углов в четырёхугольниках одинакова). Следовательно, сумма углов $E_1B_1O_1$ и $E_1C_1O_1$ равна сумме углов EBO_1 и ECO_1 . Значит, лучи по-прежнему пересекаются в призме под прямыми углами.

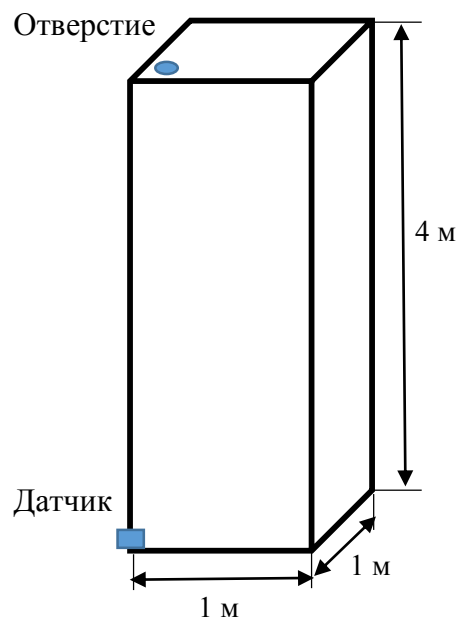


С учётом вышесказанного, принимая во внимание равенство суммы углов в «серых» четырёхугольниках, можно заключить, что угол, под которым преломился L_2 на грани OA равен углу, под которым он упал на грань OD . Значит, по закону Снеллиуса, угол под которым луч выйдет из грани OD равен углу, под которым он упал на грань OA .

Заметим, что от показателя преломления стекла ответ не зависит.

Задача 5. «Гидростатический черный ящик».

Имеется прямоугольный сосуд размерами 1х1х4 метра. В верхней крышке сосуда есть отверстие. В нижней части сосуда вплотную ко дну смонтирован миниатюрный датчик давления. Внутри сосуда может быть расположено произвольное число перегородок и закрытых ими полостей. Каждая перегородка имеет пренебрежимо малый объем и расположена горизонтально или вертикально. Все вертикальные перегородки параллельны одной и той же стенке сосуда.



Через верхнее отверстие в сосуд медленно заливают воду, снимая при этом зависимость показаний датчика давления от объема налитой воды. Полученная зависимость представлена на графике.

Проанализируйте ее и нарисуйте на выданном вам

листе возможную схему расположения перегородок в сосуде, соответствующую данному графику (достаточно любой одной схемы из множества возможных). На схеме укажите масштаб и все характерные размеры. Поясните, каким образом вы получили эти размеры и определили характерные особенности расположения перегородок.

Считайте $g = 10 \text{ м/с}^2$, плотность воды $\rho = 1000 \text{ кг/м}^3$, атмосферное давление $p_0 = 100 \text{ кПа}$.

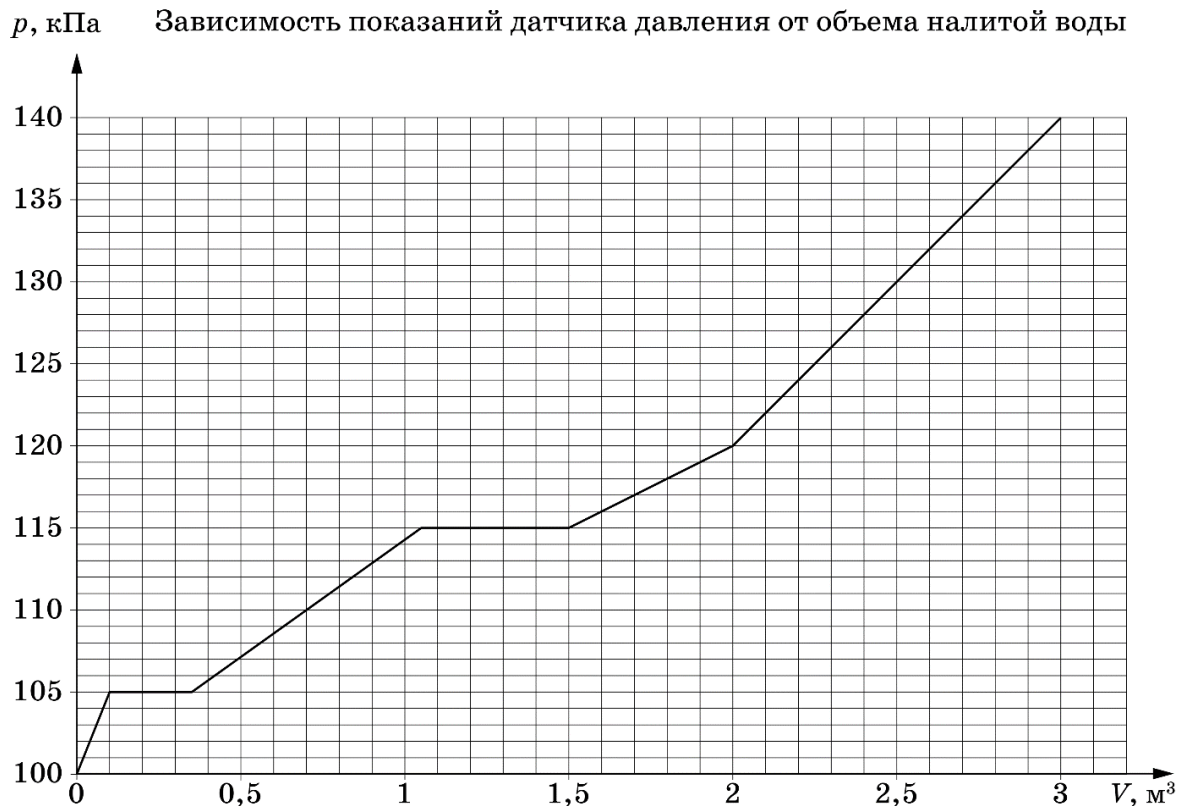
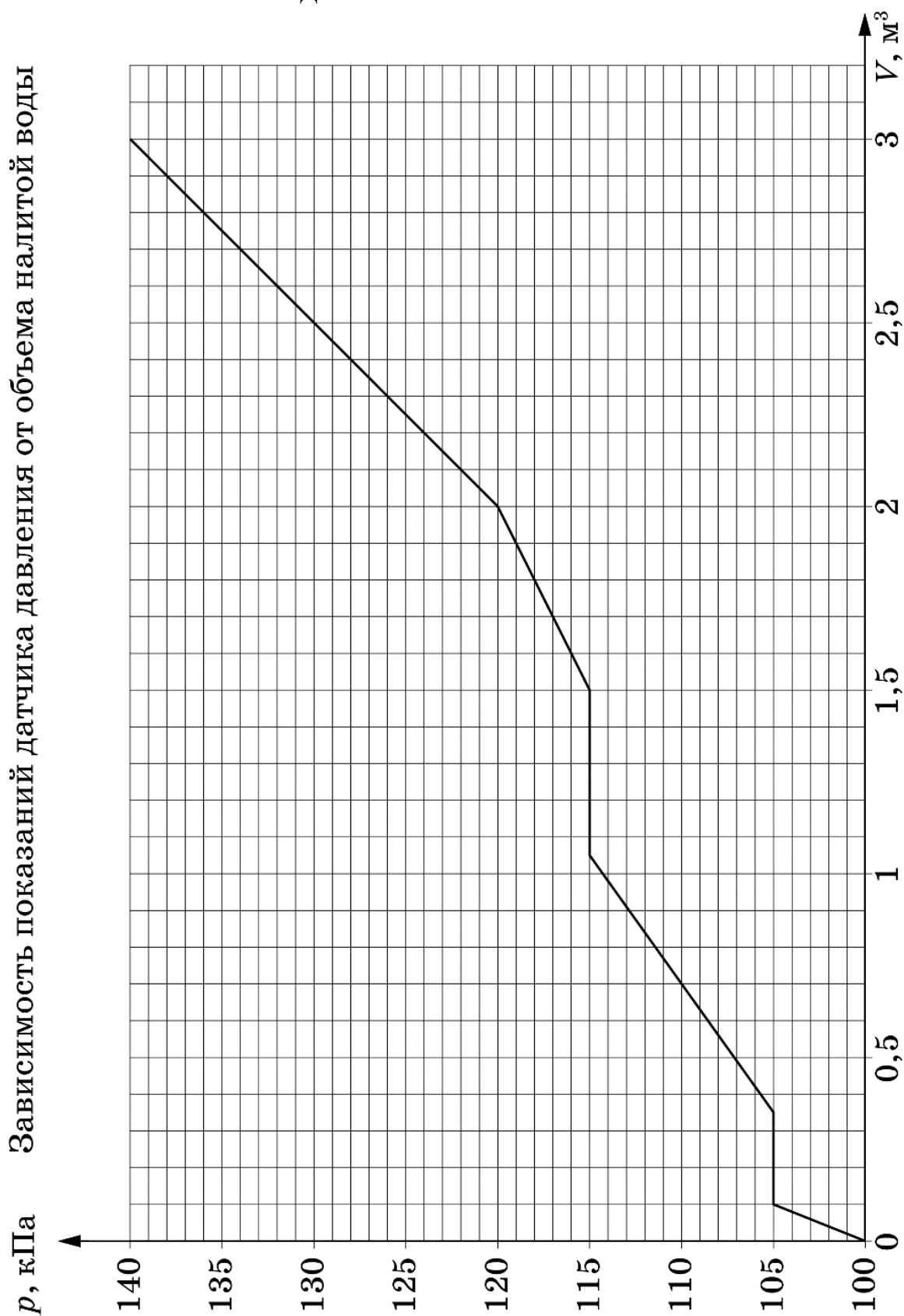



График для задачи 5 следует распечатать на отдельном листе формата А4.
СДАЕТСЯ ВМЕСТЕ С РАБОТОЙ!!!



Заготовку для схемы задачи 5 следует распечатать на отдельном листе формата А4.
СДАЕТСЯ ВМЕСТЕ С РАБОТОЙ!!!



Возможное решение. Мы видим несколько участков линейного увеличения давления. Измеряемое датчиком давление $P = P_0 + \rho gh$, где h – высота свободной поверхности воды над датчиком давления (дном сосуда). Из графика видно, что в конце процесса сосуд оказался заполнен доверху.

Пусть в сосуд долили небольшой объем воды ΔV , который растекался по свободной поверхности уже налитой жидкости. Пусть площадь свободной поверхности воды равна S , тогда $\Delta V = S \cdot \Delta h = \frac{S \Delta P}{\rho g}$, откуда $S = \rho g \frac{\Delta V}{\Delta P}$. Найдем площади свободной поверхности жидкости для каждого линейного участка возрастания давления.

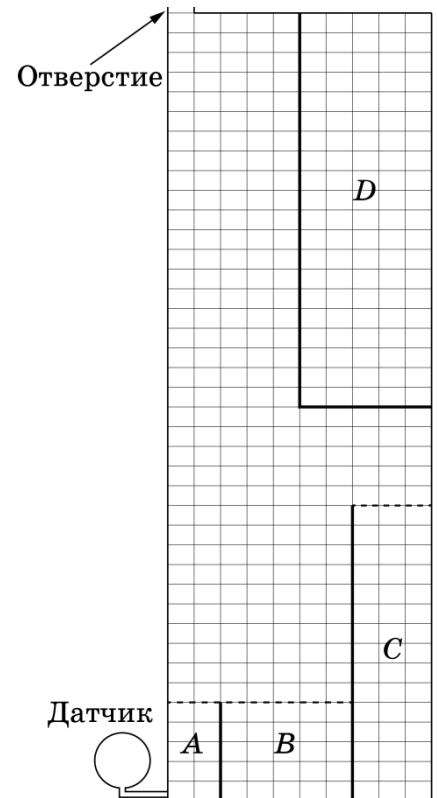
$h, \text{ м}$	0,0-0,5	0,5-1,5	1,5-2,0	2,0-4,0
$S, \text{ м}^2$	0,2	0,7	1,0	0,5

Из таблицы видно, что только в диапазоне высот 1,5 - 2,0 метра от дна вода заполняла сосуд по всей его площади.

Теперь разберемся с горизонтальными участками графика. Как возможно такое, что при увеличении объема воды в сосуде давление у дна не возрастает. Это возможно, если в определенный момент времени вода достигает верха некоторой перегородки и затем переливается через нее, а когда уровень воды за перегородкой сравняется с уровнем воды перед перегородкой, то давление на дно вновь начинает расти.

Из графика видно, что объем частей А, В и С составляют соответственно $0,1 \text{ м}^3$; $0,25 \text{ м}^3$ и $0,45 \text{ м}^3$. Часть Д представляет собой полость, образованную горизонтальной и вертикальной перегородками.

На рисунке приведен один из возможных примеров расположения перегородок в сосуде. Одна клетка соответствует 0,1 метра.



Уточненные критерии

9 класс

Задача 1

1	Указано, что остановка происходит либо при $t_1 = t_0$, либо при $t_2 = 3t_0$ (по 1 баллу за каждый случай)	2 балла
2	Получены выражения для S_1 и S_2 через a и t_0 (или τ) (по 2 балла за каждый путь)	4 балла
3	Получено выражение для ΔS через a и t_0 (или τ)	1 балл
4	Найдено время движения τ	1 балл
5	Найдены пути S_1 и S_2 (по 1 баллу за каждый путь)	2 балла

Задача 2

1	Записано выражение для показаний весов сразу после погружения тела на нити (1)	2 балла
2	Записано уравнение теплового баланса (2)	1 балл
3	Записано выражение для показаний весов после намерзания льда (3)	2 балла
4	Записано выражение для показаний весов после таяния льда (4)	2 балла
5	Найдена начальная масса льда	1 балл
6	Найдена масса шарика	1 балл
7	Найдена начальная температура льда с шариком	1 балл

Задача 3

1	Правильно и обоснованно определено положение вольтметра на схеме (в положении 2): - исключена возможность нахождения в положении 1 – 2 балла; - исключена возможность нахождения в положении 3 – 2 балла; - если нахождение вольтметра в положении 2 не доказано, а это просто утверждается (например, со ссылкой на обычную практику), то за этот пункт ставится 1 балл.	4 балла
2	Правильно определены показания второго амперметра	2 балла
3	Правильно рассчитаны сопротивления резисторов R и $2R$	2 балла
4	Правильно рассчитано напряжение источника U_0	2 балла

Задача 4

1	Правильно описано прохождение луча, нормально падающего на грань призмы	1 балл
2	Применён закон отражения света	1 балл
3	Указано на симметричность хода луча L_1 в призме (относительно оси OO_1)	1 балл
4	Правильно найдены неизвестные углы в призме (хотя бы один из них)	2 балла
5	Доказано, что луч, падающий на грань DO_1 , и во втором случае перпендикулярен лучу, падающему на грань OD .	2 балла
6	Получено, что угол преломления луча L_2 на грани OA равен его углу падения на грань OD	2 балла
7	Сделан вывод о том, что угол, под которым луч выйдет из грани OD , равен углу, под которым он упал на грань OA ($\beta = \alpha$)	1 балл

Примечание к критериям

Если задача решалась альтернативным способом, например, через пошаговое построение хода лучей, то при оценивании решения следует придерживаться следующих правил:

1. Полностью правильное решение с выводом равенства углов $\beta = \alpha$ – 10 баллов.
2. Рассмотрение хода луча L_1 с правильным нахождением угла γ – 5 баллов.

Возможно альтернативное решение, основанное на знании того факта, что луч, отражаясь от двугранного угла, в результате поворачивается (относительно начального направления) на удвоенную величину этого угла. Пример – уголкового отражателя. Тогда не нужно искать угол γ , а результат п. 5 получается сразу. Такое решение, в случае его доведения до конца, оценивается полным баллом.

Задача 5

1	Сделан пересчет давления в высоту	1 балл
2	Определена площадь свободной поверхности воды на разных высотах	1 балл
3	Дано объяснение горизонтальным участкам на графике	2 балла
4	Указано, что на высоте 1,5-2,0 метра отсутствуют перегородки, препятствующие заполнению всей площади сосуда	1 балл
5	Участок графика от 0 до 0,5 метра указывает на наличие перегородки между частями А и В	1 балл
6	Часть А имеет объем $0,1 \text{ м}^3$ (ее высота 0,5 метра была определена ранее – в п. 2)	1 балл
7	Участок графика от 0,5 до 1,5 метров указывает на наличие перегородки между частями В и С	1 балл
8	Часть В имеет объем $0,25 \text{ м}^3$ (и высоту 0,5 метра) Часть С имеет объем $0,45 \text{ м}^3$ (и высоту 1,5 метра) (высоты были определены ранее – в п. 2)	1 балл
9	Участок графика от 2,0 до 4,0 метра соответствует полости D	1 балл