

## ЗАДАНИЯ ТРЕТЬЕГО (ТЕСТОВОГО) ТУРА

1. Какая горная вершина в первой половине XIX века была высочайшей точкой Российской империи?

- А. Денали
- Б. Пик Исмоила Сомони
- В. Ключевская Сопка
- Г. Эльбрус

2. Вблизи каких островов температура поверхностных вод Мирового океана самая высокая?

- А. Острова Баунти
- Б. Архипелаг Бисмарка
- В. Острова Королевы Елизаветы
- Г. Острова Хуан-Фернандес

3. В каком возрасте различие в численности женщин и мужчин в России наименьшее?

- А. 1 год
- Б. 15 лет
- В. 30 лет
- Г. 60 лет

4. Территория какого современного государства никогда официально не входила в состав Австро-Венгерской империи?

- А. Боснии и Герцеговины
- Б. Бывшей югославской Республики Македония
- В. Хорватии
- Г. Чехии

5. Как называются летние пастбища в альпийском и субальпийском поясах гор Средней Азии?

- А. Аласы
- Б. Джайляу
- В. Полонины
- Г. Тугай

**6.** Какой из четырёх городов США расположен на более высокой широте, чем Сочи?

- А.** Бостон
- Б.** Сиэтл
- В.** Сан-Франциско
- Г.** Чикаго

**7.** В каком из четырёх субъектов Российской Федерации больше половины всего населения сосредоточено в его административном центре?

- А.** Кемеровская область
- Б.** Нижегородская область
- В.** Омская область
- Г.** Самарская область

**8.** Какая из столиц расположена на большем удалении от морского побережья?

- А.** Вьентьян
- Б.** Ла-Пас
- В.** Прага
- Г.** Уагадугу

**9.** Какой путешественник дал местности на берегах реки Святого Лаврентия название «Канада»? **А.** Джованни да Вераццано

- Б.** Джордж Ванкувер
- В.** Жак Картье
- Г.** Лейф Эрикссон

**10.** Самолёт вылетел из Апия (UTC+13)\* 10 апреля в 13:00, пересёк линию перемены дат и через три часа приземлился в Папеэте (UTC−10). Когда он прибыл на аэродром назначения?

- А.** 9 апреля в 17:00
- Б.** 10 апреля в 17:00
- В.** 8 апреля в 17:00
- Г.** 11 апреля в 17:00

\* UTC — так называемое Всемирное координированное время, современный аналог среднего времени по Гринвичу; +13/−10 — разница с этим временем в часах.

**11.** По валовому сбору какой сельскохозяйственной культуры Китай занимает второе место в мире?

- А. Виноград
- Б. Картофель
- В. Кукуруза (на зерно)
- Г. Хлопчатник

**12.** В результате какого процесса образовались фавелы Рио-де-Жанейро и басты Калькутты?

- А. Дезурбанизация
- Б. Ложная урбанизация
- В. Субурбанизация
- Г. Эксурбанизация

**13.** Какая информация никогда не отражается на топографических картах?

- А. Видовой состав кустарниковой растительности
- Б. Грузоподъёмность мостов
- В. Количество жителей в населённых пунктах
- Г. Проходимость болот

**14.** Как называются линии на карте, соединяющие точки с равной скоростью, или с одинаковыми значениями амплитуды неотектонических движений?

- А. Изоанемоны
- Б. Изобары
- В. Изобаты
- Г. Изобазы

**15.** Какой город находится в ареале естественного произрастания араукарии?

- А. Анталья
- Б. Валенсия
- В. Вальпараисо
- Г. Филадельфия

**16.** Какая из научных антарктических станций расположена в глубине континента?

**А.** Академик Вернадский

**Б.** Амундсен-Скотт

**В.** Дюмон-д'Юрвиль

**Г.** Мак-Мердо

**17.** В пределах какой природной зоны на территории России добывается бóльшая часть нефти?

**А.** Тундра

**Б.** Лесотундра

**В.** Тайга

**Г.** Лесостепь

**18.** В каком городе 15 июля солнце восходит позже, чем в остальных?

**А.** Бостон

**Б.** Бишкек

**В.** Бразилиа

**Г.** Брянск

**19.** Какая пустыня относится к типу солончаковых?

**А.** Деште-Кевир

**Б.** Карру

**В.** Мохаве

**Г.** Такла-Макан

**20.** Какой из четырёх городов в 1900 году входил в первую десятку мировых лидеров по количеству жителей?

**А.** Каир

**Б.** Мехико

**В.** Париж

**Г.** Рим

21. Что можно было бы наблюдать в Москве, если предположить, что угол наклона плоскости экватора к плоскости эклиптики в два раза больше нынешнего?

- А. Зимнее солнцестояние 22 июня
- Б. Полярный день
- В. Полярная звезда в зените
- Г. Солнце в зените

22. Какое из четырёх морей отличается наиболее мощным и длительно сохраняющимся ледовым припаем?

- А. Баренцево море
- Б. Восточное-Сибирское море
- В. Норвежское море
- Г. Море Скоша (Скотиа)

23. Какие три объекта из списка Всемирного наследия ЮНЕСКО расположены на одном материке?

- А. Альгамбра, Аюттхая (Аюттайя), Кутб-Минар
- Б. Абу-Симбел, Боробудур, Керкуан
- В. Паленке, Ору-Прету, Чавин
- Г. Персеполь, Тассилин-Аджер, Эль-Джем

24. Какой способ **НЕ** используют для изображения рельефа местности на картах?

- А. Штрихи
- Б. Изолинии с послойной окраской
- В. Качественный фон
- Г. Перспективный рисунок

25. Какое из четырёх озёр самое мелкое?

- А. Балхаш
- Б. Виннипег
- В. Ньяса
- Г. Эйр

26. Какое из утверждений о Средней Сибири верно?

- А. Число дней со снежным покровом в регионе не превышает 180.
- Б. Долины рек глубоко врезаны и могут иметь несколько террас.
- В. Термоабразия — редкое для региона явление.
- Г. На территории региона расположено только одно вулканическое плато.

27. Какой город расположен на территории с максимальной мощностью осадочных пород?

- А. Курск
- Б. Новосибирск
- В. Петрозаводск
- Г. Петропавловск-Камчатский

28. Какая островная территория **НЕ** является заморским сообществом Франции?

- А. Сен-Бартельми
- Б. Сен-Мартен
- В. Сен-Пьер и Микелон
- Г. Сент-Люсия

29. В окрестностях какого города можно увидеть тип рельефа, схематически изображённый на рисунке I?

- А. Бахчисарай
- Б. Беломорск
- В. Березники
- Г. Бийск

На рисунке обозначены:

- 1 – пласты податливых пород;
- 2 – стойкие породы;
- К – консеквентная долина;
- С – субсеквентные долины;
- Р – ресеквентные долины


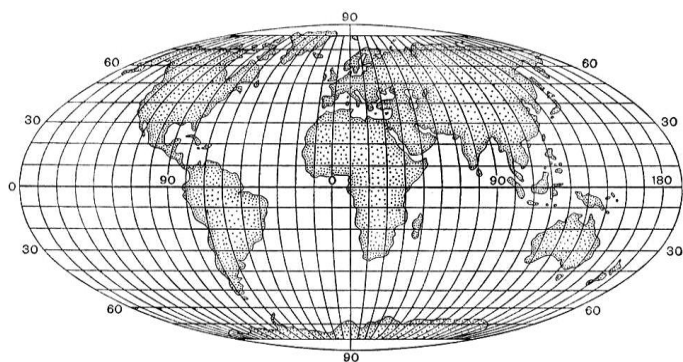
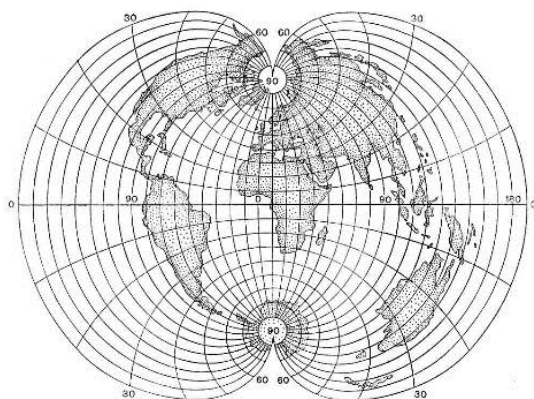


Рисунок I.

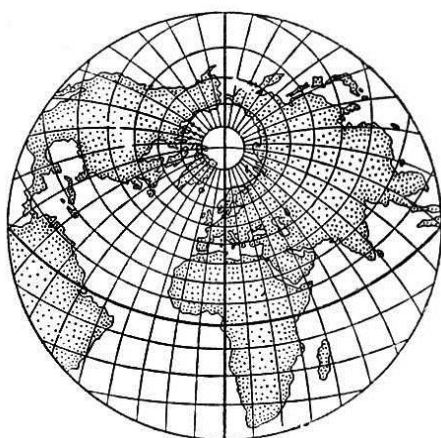
30. Какая из изображённых на рисунках А—Г картографических проекций является псевдоцилиндрической и считается наиболее удобной для изображения океанов?



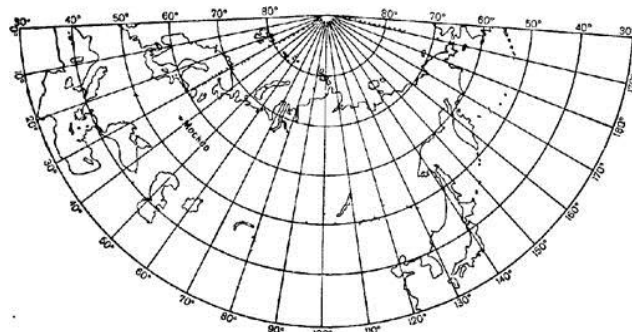
А.



Б.



В.



Г.