


**ВСЕРОССИЙСКАЯ ОЛИМПИАДА ШКОЛЬНИКОВ
ПО ТЕХНОЛОГИИ. 2014–2015 ГОД
ШКОЛЬНЫЙ ЭТАП. 8 КЛАСС**
номинация «Культура дома и декоративно-прикладное творчество»
Теоретический тур

1. Девочка сделала следующую вышивку по схеме: 5 клеток вниз, 1 клетку вправо, 4 клетки вверх, 2 клетки вправо, 4 клетки вниз, 1 клетку вправо, 5 клеток вверх и 4 клетки влево. Какую букву вышила девочка?



Ответ: _____.

В заданиях 2–3 выберите один правильный ответ.

2. Какой из перечисленных объектов имеет наноразмер?

- а. игольное ушко
- б. крыло стрекозы
- в. линейка закройщика
- г. толщина оболочки мыльного пузыря

3. Перловую крупу производят из:

- а. овса
- б. гречихи
- в. пшеницы
- г. ячменя.

4. Назовите три материала, из которых можно сшить блузку.

а. _____;


б. _____;

в. _____.

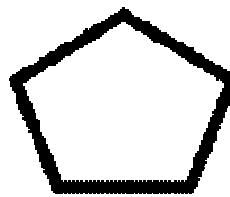
5. Укажите наиболее жёсткую форму, т.е. объект лучшим образом сохраняющий форму при деформации.




а



б



в



г

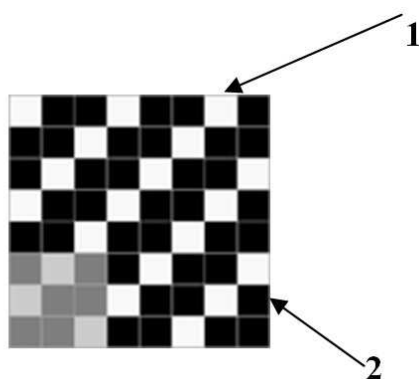
6. Для покраски потолка площадью 40 квадратных метров, необходимо положить два слоя краски. Известно, что на покраску 1 квадратного метра потолка первым слоем требуется 200 грамм краски, а на покраску 1 квадратного метра потолка вторым слоем – 150 грамм краски. В настоящее время в магазине есть краска только в банках одного вида, вес краски в такой банке 1,5 кг. Определите количество банок, которое необходимо купить для качественной покраски потолка.

Ответ: _____.

7. Существуют общепринятые сокращения для записи мерок. Как модельер-конструктор одежды для животных запишет мерку «полуобхват хвоста»?

Ответ _____.

8. Назови, какое переплетение нитей изображено на рисунке и подпиши названия нитей.



Название переплетения: _____

Нить 1 _____

Нить 2 _____

В заданиях 9–10 выберите один правильный ответ.

9. К какой группе продуктов относится отгадка загадки: «Сидит дед, во сто шуб одет, кто его раздевает, тот слёзы проливает»?

- а. овощи б. фрукты в. молочные продукты г. морепродукты.

10. Необходимо заморозить ягоды, затратив наименьшее время. Как следует поступить, если объём морозильной камеры достаточно велик:

- а. сложить ягоды в порционные полиэтиленовые пакеты;
б. выложить на поддон в один слой;
в. сложить в ёмкость для хранения в морозильной камере.