


**ВСЕРОССИЙСКАЯ ОЛИМПИАДА ШКОЛЬНИКОВ  
ПО ТЕХНОЛОГИИ. 2014–2015 ГОД  
ШКОЛЬНЫЙ ЭТАП. 7 КЛАСС**

**номинация «Культура дома и декоративно-прикладное творчество»  
Теоретический тур**

**1. Девочка сделала следующую вышивку по схеме: 5 клеток вниз, 5 клеток вправо, 5 клеток вверх, 1 клетку влево, 4 клетки вниз, 1 клетку влево, 4 клетки вверх и, 1 клетку влево, 4 клетки вниз, 1 клетку влево, 4 клетки вверх и, 1 клетку влево. Какую букву вышила девочка?**



**Ответ:** \_\_\_\_\_.

*В заданиях 2–3 выберите один правильный ответ.*

**2. Какой из перечисленных объектов может быть назван наноструктурой?**

- а) наперсток
- б) крыло стрекозы
- в) линейка закройщика
- г) оболочка мыльного пузыря

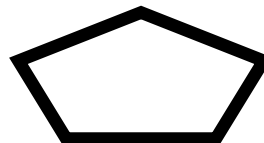
**3. Геркулес производят из:**

- а) овса
- б) гречихи
- в) пшеницы
- г) ржи.

**4. Назовите три материала, из которых можно сшить юбку.**

- а) \_\_\_\_\_;
- б) \_\_\_\_\_;
- в) \_\_\_\_\_.

**5. Укажите наиболее жёсткую форму, т.е. объект лучшим образом сохраняющий форму при его деформации.**



Выберите и отметьте один правильный ответ.

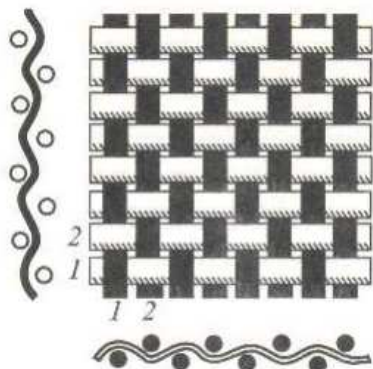
6. Известно, что деталь для изготовления салфетки имеет длину 30 см и ширину 13 см, сколько таких деталей можно изготовить из отреза ткани длиной 1 м и шириной 1,3 м :

- а) 5                      б) 6                      в) 3                      г) 4

7. Существуют общепринятые сокращения для записи мерок. Как модельер-конструктор одежды для животных запишет мерку «длина хвоста»?

Ответ \_\_\_\_\_.

8. Назови, какое переплетение нитей изображено на рисунке и подпиши названия нитей



Название переплетения: \_\_\_\_\_

Нить 1 \_\_\_\_\_

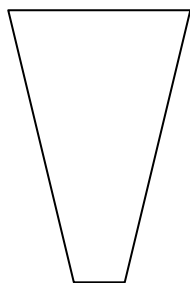
Нить 2 \_\_\_\_\_

Выберите и отметьте один правильный ответ.

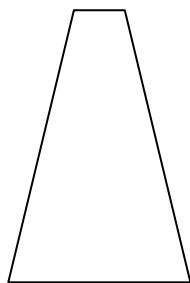
9. К какой группе продуктов относится отгадка загадки: «Сто одежек и все без застежек»?

- а) овощи              б) фрукты              в) молочные продукты              г) морепродукты.


10. Какая из фигур обладает наибольшей устойчивостью и почему?



а



б



в

Ответ: \_\_\_\_\_.