

ВСЕРОССИЙСКАЯ ОЛИМПИАДА ШКОЛЬНИКОВ  
ИСТОРИЯ. 2023–2024 уч. г.  
ШКОЛЬНЫЙ ЭТАП. 8 КЛАСС  
ОТВЕТЫ И КРИТЕРИИ ОЦЕНИВАНИЯ

**Максимальный балл за работу – 73.**

**1 (1-6).** Перед вами перечень событий, произошедших в правление трёх российских правителей. Выберите имена этих правителей из предложенного списка и занесите данную информацию в таблицу. Под именами правителей поставьте буквенные обозначения событий, произошедших в их правление.

Перечень правителей


1. Иван Калита
2. Василий III
3. Игорь Святославич
4. Дмитрий Донской
5. Иван III
6. Василий II

|                  |     |     |     |
|------------------|-----|-----|-----|
| <b>Правитель</b> | 1   | 2   | 5   |
| <b>Событие</b>   | АГИ | ДЖЗ | БВЕ |

- А. Тверское восстание
- Б. Принятие в качестве герба Российского государства двуглавого орла
- В. Строительство Благовещенского собора Кремля
- Г. Строительство деревянного Кремля в Москве
- Д. Пострижение в монахини Соломонии Сабуровой
- Е. Разгром ереси жидовствующих
- Ж. Поход Мехмет Гирея на Москву
- З. Присоединение Стародубского княжества к Москве
- И. Перенос резиденции митрополита в Москву

*За каждый верный выбор – 1 балл. Если у правителя выбрано более 5 событий у него – 0 баллов. Максимум за задание – 12 баллов.*

**2 (7).** Выберите термины, которые соответствуют архитектурным элементам, представленным на приведённом изображении.



1. Портал
2. Портик
3. Волюта
4. Апсиды
5. Закомары
6. Барабан

**Ответ: 1,4,5,6.**

***За каждый верный выбор 1 балл, штраф за каждый неверный выбор 1 балл. При выборе больше 5 утверждений – 0 баллов. Максимум за задание – 4 балла.***

**3 (8).** Выберите из приведённого списка события всемирной истории, которые произошли в той же половине века, что и описанное в тексте событие.

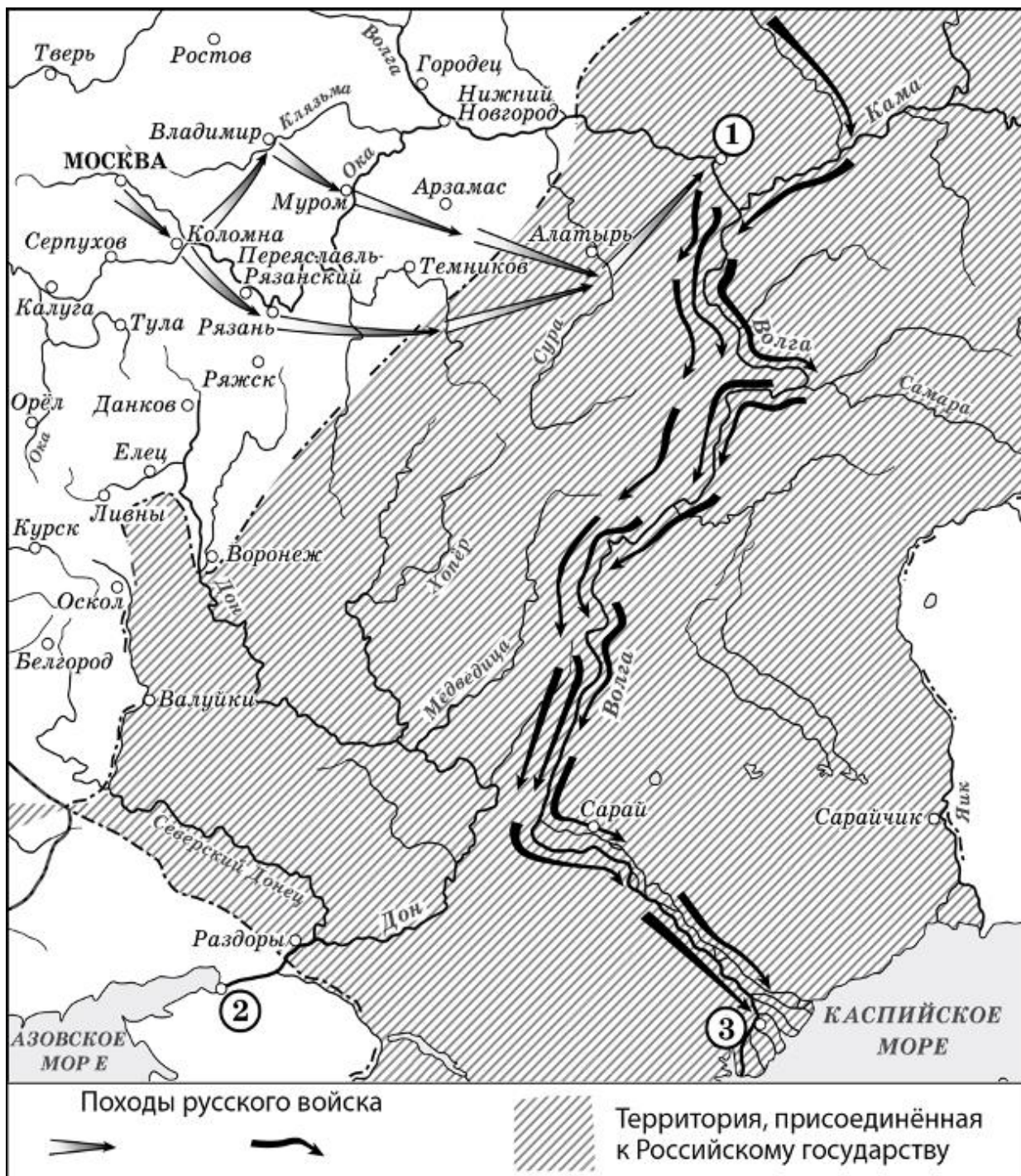
Сыновья же русские вступили в обширные поля коломенские, но и тут не вместиться огромному войску, и невозможно было никому очами окинуть рати великого князя. Князь же великий, въехав на возвышенное место с братом своим, с князем Владимиром Андреевичем, видя великое множество людей снаряжённых, возрадовался и назначил каждому полку воеводу. Себе же князь великий взял под командование белозерских князей, и в полк правой руки назначил брата своего, князя Владимира, и дал ему под командование ярославских князей, а в полк левой руки назначил князя Глеба Брянского.

1. Битва на Косовом поле
2. Жакерия во Франции
3. Разгром Тамерланом Золотой Орды
4. Грюнвальдская битва
5. Разгром ордена тамплиеров
6. Принятие Великой хартии вольностей

Ответ: 1,2,3.

За каждый верный выбор 1 балл, штраф за каждый неверный выбор 1 балл. При выборе больше 5 утверждений – 0 баллов. Максимум за задание – 3 балла.

4-6 (9-13). Внимательно рассмотрите схему и выполните представленные задания.



4 (9). Выберите все верные утверждения.

1. Цифрой на схеме обозначен город, который на протяжении нескольких лет удерживался казаками в период его нахождения под контролем Османской империи.
2. На схеме обозначен торговый путь «из варяг в греки».
3. В период событий, обозначенных на схеме, была переименована река Яик.
4. На схеме обозначен город, в котором состоялся сбор русских войск накануне Куликовской битвы.
5. Цифрой «1» на схеме обозначен Симбирск.
6. Одной из стрелок на схеме обозначен поход Ерофея Хабарова.
7. На схеме обозначена восточная граница Российского государства до воцарения Ивана IV.
8. Цифрой «3» на схеме обозначена Астрахань.
9. В результате событий, обозначенных на схеме, Каспийское море стало внутренним морем России.
10. На схеме обозначено не менее двух городов, в которых родились легендарные русские богатыри.

**Ответ: 1,4,7,8,10.**

*За каждый верный выбор 1 балл, штраф за каждый неверный выбор 1 балл. При выборе больше 7 утверждений – 0 баллов. Максимум за задание – 5 баллов.*

**5 (10-12).** Выберите из представленных картин те, на которых отражены события всемирной истории, произошедшие:

- А. на век раньше событий, отображённых на схеме;
- Б. в том же веке, что и события, отображённые на схеме;
- В. на век позже событий, отражённых на схеме.

Обратите внимание, что среди изображений есть лишние.



7



8



Ответ:

| А |   | Б |   | В |   |
|---|---|---|---|---|---|
| 2 | 3 | 4 | 1 | 6 | 8 |

*За каждый верный выбор – 1 балл, штраф за каждый неверный выбор 1 балл. При выборе более 4 картин в каждой группе – 0 баллов. Максимум за задание – 6 баллов.*

**6 (13).** Прочитайте отрывки из исторических источников. Выберите те из них, которые имеют непосредственное отношение к походам, отображённым на схеме.

А. И внезапно те царевичи поспешили в проломы со своими варварскими полками, и в мгновение ока, в то время как казанцы ещё метались в страхе, сами себя не понимая и не обретя разум, беспрепятственно вошли в город сквозь полые места и спасли город от разрушения и пожара, потушив огонь.

Пехотинцы же приставляли к стенам бесчисленные лестницы и неудержимо лезли на город. Некоторые же, словно птицы или белки, повсюду зацеплялись, как когтями, железными баграми за стены, и влезали на город, и били казанцев.

Б. А Котян, князь половецкий, с иными князьями и с остатком половцев прибежали к тому месту, что называется вал половецкий, а другие половцы многие убежали в Русскую землю. Этот Котян был тесть Мстиславу Мстиславичу Галицкому. И пришёл он с князьями половецкими в Галич с поклоном к князю Мстиславу, к зятю, и ко всем князьям русским. И дары принёс многие – коней, и верблюдов, и буйволов, и невольниц; и одарил князей русских и сказал так: «Нашу землю татары отняли сегодня, а вашу завтра возьмут. Приходите, обороните нас. Если не поможете нам, то мы нынче иссечены будем, а вы завтра».

В. А теперь поведаю вам, дети мои, о труде своём, как трудился я в разъездах и на охотах с тринадцати лет. Сначала я к Ростову пошёл сквозь землю вятичей; послал меня отец, а сам он пошёл к Курску; и снова вторично ходил я к Смоленску, со Ставком Гордятичем, который затем пошёл к Берестью с Изяславом, а меня послал к Смоленску; а из Смоленска пошёл во Владимир.




Г. Те же, придя к Казани, по Волге до Камы и на Каме на много вёрст перекрыли все пути казанцам и с Божьей помощью город на Свяге поставили и в нём церковь пречистой Богородицы в честь славного её Рождества, а также церковь великого чудотворца Сергия. И когда увидели нечестивые такое притеснение, никогда раньше над ними не чинимое, то начали многие из них приезжать к воеводам и челом бить.

Д. Пришли к царю Борису из Литвы великие послы Лев Сапега с товарищами [просить] о мирном постановлении. Царь же Борис им воздал великую честь, и ездили на переговоры многое время, и едва условились о мирном договоре, и взяли перемирие на двадцать лет. После же заключения мира [послы] были у стола государева, и государь их пожаловал своим государевым великим жалованием и отпустил их к Жижиманту королю польскому

**Ответ: АГ**

**За каждый верный выбор 2 балла, штраф за каждый неверный выбор 2 балла. При выборе больше 4 утверждений – 0 баллов. Максимум за задание – 4 балла.**

**7 (14).** Рассмотрите представленные фотографии. Выберите те, на которых отражены события, связанные с Великой Отечественной войной.







**Ответ: 1, 2, 3, 7, 9.**

***За каждый верный выбор 1 балл, штраф за каждый неверный выбор 1 балл. При выборе больше 7 утверждений – 0 баллов. Максимум за задание – 5 баллов.***

**8-11 (15-18).** Заполните пропуски в таблице, выполнив следующее.

А. Сопоставьте с указанными в таблице веками схемы, на которых отражены события, произошедшие в каждом из этих веков.

Б. Соотнесите схемы с фрагментами исторических источников, в которых описаны события, отражённые на схемах.

В. Соотнесите со схемами имена участников событий, описанных во фрагментах.

Г. Соотнесите со схемами иллюстрации, на которых изображены события, связанные с приведёнными схемами.

Обратите внимание на то, что среди предлагаемых вставок есть лишние элементы.

| Век  | Схема | Исторический источник | Участник событий | Иллюстрация |
|------|-------|-----------------------|------------------|-------------|
| XIV  |       |                       |                  |             |
| XV   |       |                       |                  |             |
| XVI  |       |                       |                  |             |
| XVII |       |                       |                  |             |

8. Схемы.

1.

2.

3.

4.

5.

**Условные обозначения**

Русские войска ←  
Укрепления русских войск —  
Главные силы Ахмед-хана ←  
Отход войск Ахмед-хана —

## 9. Фрагменты источников.

А. По прошествии немногих дней враги переправились на эту сторону реки и, нахлестывая коней своих и закричав на своем языке, пошли рысью, и ударили на наших. А наши ринулись на них: с одной стороны, Тимофей окольниковый, а с другой стороны – князь Даниил Пронский, а князь великий ударил в лоб им. Ордынцы же сразу побросали копья свои и побежали за реку, а наши стали преследовать их, рубя и коля, и великое множество перебили их, а многие из них в реке утонули. И вот имена убитых князей их: Хазибей, Коверга, Карабулук, Костров, Бегичка.

Б. И изгнаша варягы за море, и не даша имъ дани, и почаша сами в себе володети. И не бе в нихъ правды, и вѣста родъ на род, и быша усобице в них, и воевати сами на ся почаша. И ркоша: «Поищемъ сами в себе князя, иже бы володель нами и рядиль по ряду, по праву». Идоша за море к варягом, к руси. Сице бо звахуть ты варягы русь, яко се друзии зовутся сее, друзии же урмани, аныглыне, инеи и готе, тако и си. Ркоша руси чюдь, словене, кривичи и вся: «Земля наша велика и обилна, а наряда въ ней неть. Да поидете княжить и володеть нами».

В. Казанские города от шатости укрепляли. Да у Андрея Строганова, во время мимошедшее, как стояли под Москвою бояре Наши и воеводы князь Дмитрий Пожарский и Прокопий Ляпунов, и по городам, взяты у него Андрея многия деньги ратным людем на жалованье. Да прадед же ево Григорья, служа и радея предкам Нашим Государским, призвал с Волги атаманов и казаков – Ермака с товарищи в свои вотчины, и на помощь ему ратных многих людей наймывал, и всему войску помощь чинил, и деньги, и платье, и боевое ружьё, и порох, и свинец, и всякой запас к воинскому делу из заводов своих и пожитков давал, и дворовых своих людей с ними посылал; и Сибирское государство они взяли и под Нашу высокую руку Сибирцев привели.

Г. Братья же великого князя все со многими людми, кийждо нз своя отчины, поидоша розными дорогами к Новугороду, пленующе и жгуще и люди въ пленъ ведууде; такоже и князя великого воеводы та же творяху, кийждо на кое место посланъ. Прежепосланни их воеводы великого князя, князь Данило Дмитриевич Холмъвский и Феодоръ Давыдович, идуще по новъгородцким местом, идеже повелено им бяше, и распустиша воя своя на многия места жещи и пленити и в полон вести и казнити без милости за их неисправление ко своему государю великому князю. Дошедшим же воеводамъ темъ до Русы, поплениша и пожгоша место то; и пленивъ то и пожегъ, поидоша близ к Новугороду к реце к Шелоне. И якоже приидоша на место, нарицаемое Коростыня, а у озера Илмяня на брезе.

Д. Русская земля зело опечалися и бысть же тогда великое уныние и мятеж во всей земли Русей, понеже велицей злобе Христианскому народу належаци прещения ради неверных и насилования ратных. Видев тогда насилуемы многи,

и зело оскорбися, и поболе Зоровавельски душею за люди Господни, всемогущего Бога на помощь призывая и молву бесчисленных печалей на ся прият...; собрав убо от народа многая сокровища сребра и дари люди ратныя оброки довольными, и сице собра полки многие и военачальники искусны во бранех, князя Дмитрия Михайловича Пожарскаго над всеми быти совосприподоби, сам же никогда отлучался, аки древний Гедеон всех сердца на сопротивныя укрепляя, и тако со многими вои под Москву прииде.

### 10. Участники событий.

1. Кузьма Минич Захарьев Сухорукий
2. Андрей Михайлович Курбский
3. Ермак Тимофеевич
4. Владимир Андреевич Серпуховской
5. Дмитрий Исаакович Борецкий
6. Иосиф Волоцкий

### 11. Иллюстрации.

|  |  |
|--|--|
| <p>I</p>     | <p>II</p>   |
| <p>III</p>  | <p>IV</p>  |
| <p>V</p>   |  |



**Ответ:**

| Век  | Схема | Исторический источник | Участник событий                | Иллюстрация |
|------|-------|-----------------------|---------------------------------|-------------|
| XIV  | 3     | А                     | Владимир Андреевич Серпуховской | V           |
| XV   | 4     | Г                     | Дмитрий Исаакович Борецкий      | IV          |
| XVI  | 1     | В                     | Ермак Тимофеевич                | I           |
| XVII | 2     | Д                     | Кузьма Минич Захарьев Сухорукий | II          |

*За каждую верно заполненную строку таблицы – 4 балла. Максимум за задание – 16 баллов.*

**12 (19-21).** Установите соответствие между фрагментами исторических источников и их краткими характеристиками: к каждому фрагменту, обозначенному буквой, подберите по три соответствующие характеристики.

Обратите внимание на то, что среди приведённых характеристик есть лишние.

**А.** Майя в 15 день в осмом часу дни в набат ударили, и прииде вестник из государевых царских полат ко стрелцам: «Вы, стрелцы государевы, не знаете, что во царских полатах учинилася, утухла у нас звезда поднебесная, не стало болшаго брата государева царевича Ивана Алексеевича». И тогда собравшеся стрелцы со знамёнами и со оружием, пришли в Кремль к полатам государевым, и шли в полаты безобшибочно, и учали вопить и кричать со слезами великими умильными гласы жалостно: «Свет ты наш, Пётр Алексеевич, объяви ты нам своего государева брата царевича и великого князя Иоанна Алексеевича, жив ли есть или мёртв!» И тогда царь и царевич, и царевны все вышли на золотое крыльце, царевичь Иоанн Алексеевичь стал говорить: «Меня хотели задавить до смерти Кирила Нарышкина дети». И стрелцы учали просить у царя и у царевича, и у царевен бояр изменников. Царевичь Иоанн Алексеевич стал говорить: «Вы, стрелцы государевы, и моё

правое крыло и царёво, и аз вас пожалую, стойте вы верою и правдою, а изменников вам всех выдадим, кто вам надобеть и кого вы знаете сами». Тогда стрельцы в первые взяли к казни боярина Артемона Матвеева и за ним взяли вместо Кирилова сына Ивана неведением Салтыкова сына Петра Фёдоровича, и Кирилова сына после его взяли Афонасья, и после лекаря Ивана, и после ево боярина Михаила Юрьевича Долгорукова, и после полковника.

**Б.** Единомыслия не оказалось. Было большое волнение; каждый хотел по своей мысли делать, каждый говорил за своего; одни предлагали того, другие этого, все разноречили; придумывали, кого бы выбрать, перебирали великие роды, но ни на ком не могли согласиться и так потеряли немало дней. Наиболее серьёзный кандидат по способностям и знатности, князь В.В. Голицын, был в польском плену, кн. Мстиславский отказывался; из остальных выбирать было некого... При недостатке настоящих сил дело решалось предрассудком и интригой. В то время как собор разбивался на партии, не зная, кого выбрать, в него вдруг пошли одно за другим «писания», петиции за Михаила от дворян, больших купцов, от городов Северской земли и даже от казаков; последние и решили дело. Видя слабосилие дворянской рати, казаки буйствовали в освобождённой ими Москве, делали, что хотели, не стесняясь временным правительством. Но в деле царского избрания они заявили себя патриотами, решительно восстали против царя из чужеземцев, намечали, «примеривали» настоящих русских кандидатов, ребёнка, сына вора тушинского, и Михаила, отец которого Филарет был ставленник обоих самозванцев, получил сан митрополита от первого и провозглашён патриархом в подмосковном лагере второго. Главная опора самозванства, казачество, естественно, хотело видеть на престоле московском или сына своего тушинского царя, или сына своего тушинского патриарха. Сам по себе 16-летний мальчик, ничем не выдававшийся, мог иметь мало видов на престол, и, однако, на нём сошлись такие враждебные друг другу силы, как дворянство и казачество.

**В.** Борис объявил, что умерший царь передал державу свою царице Ирине и поручил «строить свою душу» патриарху Иову и с ним шурина своему Борису и двоюродному брату Фёдору Никитичу Романову-Юрьеву.

Это была неслыханная новость: никогда ещё женщина не царствовала самобытно, не будучи опекуншею детей; притом жена после мужа не могла быть преемницею ни по какому праву. Но права престолонаследия уже не существовало. Ещё Иван III своими речами и поступками показал, что государь может отдавать своё государство кому захочет. Грозный приучил не рассуждать ни о каких правах. Единственное, что сохранилось ещё в воззрении народа, – это воля земли, которую призывал Иван Грозный для освящения своей опричнины и в которой оказалась необходимость для утверждения Фёдора на престоле. Ирине муж при смерти передал державу, но Ирина имела только временное значение правительницы государства,

пока не установится выбор всей землёй. Через девять дней Ирина постриглась в Новодевичьем монастыре.

Тогда собрались бояре и постановили, что правление остаётся в руках бояр. Созвали народ целовать крест боярской думе, но созванная толпа состояла в большинстве из доброжелателей Бориса. Они закричали, чтобы царём был Борис.

Иов тотчас воспользовался этим и стал говорить, что следует идти просить Бориса принять царство.

Духовенство было с ним заодно, толпа служилых одобрила предложение. Все отправились в Новодевичий монастырь, где находился Борис с сестрой, которая уже приняла имя инокини Александры. Борис показывал вид, будто весь погрузился в богомыслие.

1. В тексте упоминаются исторические деятели, связанные с событиями, произошедшими в ходе осады Москвы в годы Смуты.
2. Согласно документу, происходящие события, описанные в тексте, были нетипичны для своего времени.
3. В тексте упоминается деятельность Избранной рады.
4. Среди причин начала событий, описанных в тексте, была распространившаяся ложная весть.
5. В результате событий, описанных в тексте, в России установилось двоецарствие.
6. Существенную роль в событиях, описанных в тексте, автор отводит боярскому заговору.
7. В тексте упомянуто имя первого патриарха Московского.
8. В тексте упомянуто имя сестры последнего царя из династии Рюриковичей.
9. Ведущая роль в выборе правителя, согласно автору текста, принадлежала казачеству.
10. События, описанные в тексте, вошли в историю под названием «Стрелецкий бунт».
11. В тексте упоминаются исторические деятели, принадлежавшие к двум разным династиям на русском престоле
12. В тексте упоминается прозвище Лжедмитрия II

**Ответ:**

| А |   |    | Б |   |    | В |   |    |
|---|---|----|---|---|----|---|---|----|
| 4 | 5 | 10 | 1 | 9 | 12 | 2 | 7 | 11 |

*За каждый верный выбор 2 балла, штраф за каждый неверный выбор 2 балла. При выборе больше 3 утверждений – 0 баллов. Максимум за задание – 18 баллов.*