

# Школьный этап ВсОШ в городе Москве, технология (Культура дома, дизайн и технологии), 5 класс, 2020/21

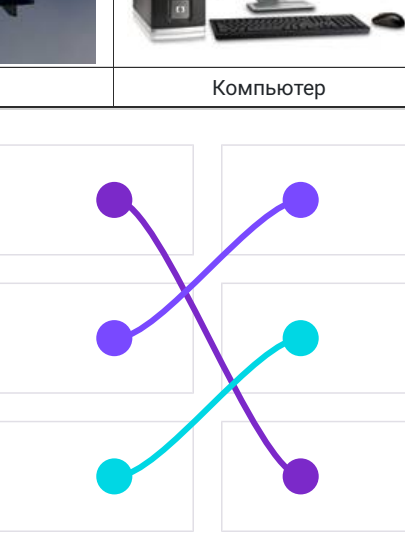
13 окт 2020 г., 09:00 — 15 окт 2020 г., 20:00

№ 1

1 балл

(1 балл) Какое слово пропущено в тексте?

«Сегодня мы не можем представить свою повседневную жизнь без \_\_\_\_\_. Первым изобрёл \_\_\_\_\_ в 105 году н. э., согласно китайским летописям, чиновник по имени Цай Лунь. Для этого он взял волокна шелковицы, старые тряпки и пеньку, древесную золу, всё это тщательно растолок и смешал с водой. Полученную массу выложил на деревянную раму и сито, сделанное из узких длинных полосок бамбука. После того как вода стекла, массу сушили на солнце и тщательно разглаживали с помощью камней. В итоге были получены прочные листы \_\_\_\_\_. Сейчас основной материал для производства \_\_\_\_\_ – древесина».

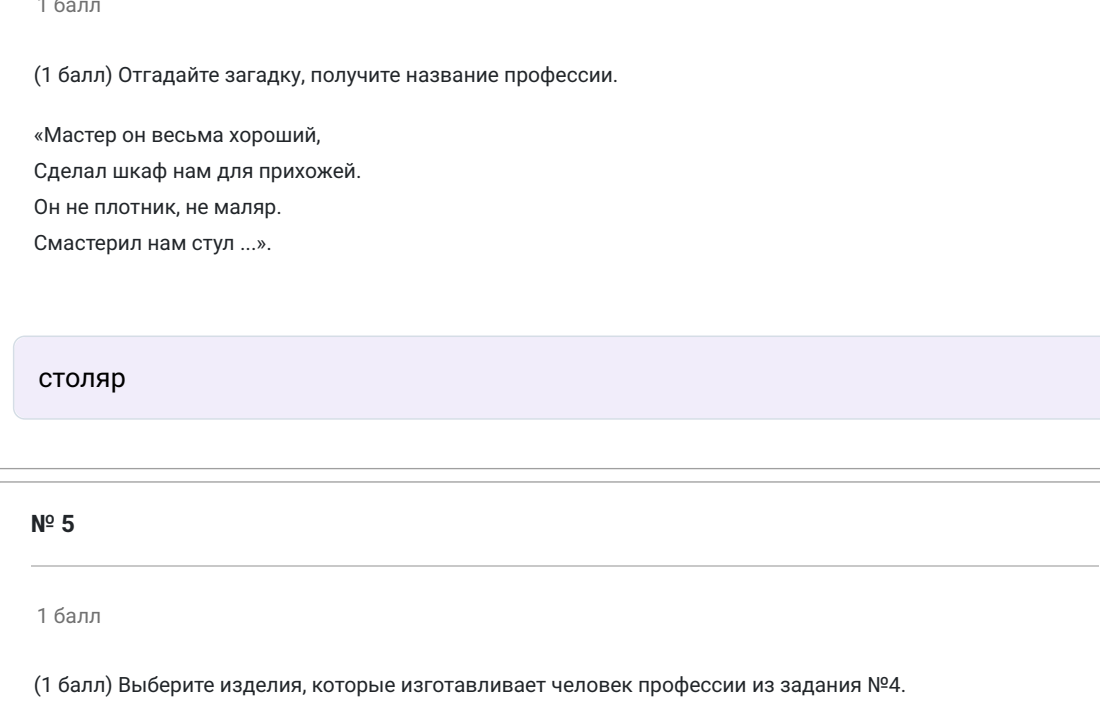


бумага

№ 2

1 балл

(1 балл) Расположите в порядке появления.



№ 3

1 балл

(1 балл) Растениеводство – одна из первых и основополагающих отраслей сельского хозяйства. Ее роль в становлении экономики, да и всего человечества, трудно переоценить. Именно растениеводство является основой продовольственной безопасности любой страны, и от его развития зависит обеспеченность населения продуктами питания.

Выберите отрасли растениеводства.

Рыбоводство

Виноградарство

Лесоводство

Свиноводство

Оленеводство

Овощеводство

№ 4

1 балл

(1 балл) Отгадайте загадку, получите название профессии.

«Мастер он весьма хороший,  
Сделал шкаф нам для прихожей.  
Он не плотник, не маляр.  
Смастерил нам стул ...».

столяр

№ 5

1 балл

(1 балл) Выберите изделия, которые изготавливает человек профессии из задания №4.

Выберите все правильные ответы.

кровать

деревянный мост

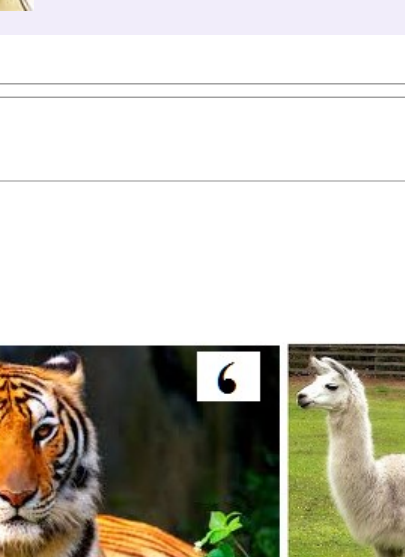
дом

табуретка

№ 6

1 балл

(1 балл) Какая сфера услуг представлена на рисунке?



Выберите один правильный ответ.

Транспорт

Торговля

Развлечения и отдых

Страхование

Продавец-кассир

№ 7

1 балл

(1 балл) Отгадайте загадку.

Неказиста, мелковата,  
Только любит все ребята,  
Запеченно в коросте,  
В арматной коври.

«Русский хлеб» – зовём мы крошку.  
Нашу добрую...

Каргошка

№ 8

1 балл

(1 балл) Без этого овоща невозможно представить нашу жизнь. Его варят как овощным, так и мясным, готовят на углях или на пару, тушат, жарят во фритюре и без него и т.д.. Какова его родина?



Выберите один правильный ответ.

Европа

Китай

Африка

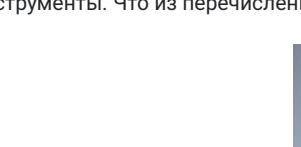
Америка

№ 9

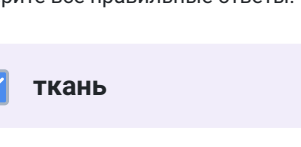
1 балл


(1 балл) Из представленных блюд, выберите те, которые диетологи рекомендуют подавать к завтраку.

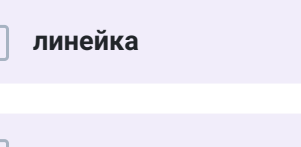













№ 10

1 балл

(1 балл) Решите ребус.



игла

№ 11

1 балл

(1 балл) Для чего применяется предмет, название которого является ответом на задание № 10?

Выберите все правильные ответы.

Вязание крючком

Вышивание

Приготовление бутербродов

Выполнение швейных работ

№ 12

1 балл

(1 балл) Хохлома – один из самых знаменитых художественных промыслов России по производству и декорированию деревянной посуды и предметов интерьера, а также вид русской народной росписи. Промысел возник во второй половине XVII века в деревнях Завольжья. Хохлома – крупный центр сбыта, «подарили» росписи соответствующее название. Какие цвета используют хохломские мастера для росписи своих изделий?

Выберите все правильные ответы.













№ 13

1 балл


(1 балл) Выберите из предложенных рисунков те, на которых изображены изделия, выполненные в технике хохломской росписи.













№ 14

1 балл

(1 балл) Для изготовления тряпичной игрушки-мотанки ученица использовала различные материалы и инструменты. Что из перечисленного ниже является материалами?



Выберите все правильные ответы.

ткань

ножницы

нитки

линейка

карандаш

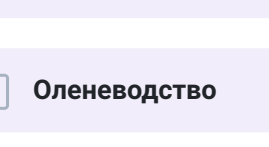
иголка

№ 15

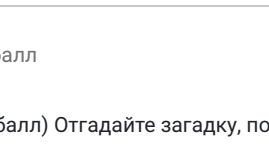
1 балл

(1 балл) Какое изделие можно изготовить из материалов из задания № 14?

Выберите один правильный ответ.








№ 16

1 балл

(1 балл) Каким ручным швом обработан контур тела собачки в данной аппликации?



Выберите один правильный ответ.

тамбурный

крестообразный

петельный

стебельчатый

№ 17

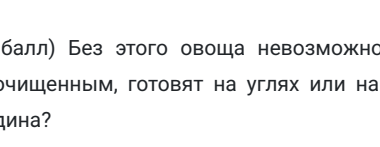
1 балл

(1 балл) Выберите изделия, выполненные с применением ручных стежков и строчек.

Выберите все правильные ответы.









№ 18

1 балл

(1 балл) У Марины есть салфетка прямоугольной формы размером 60×30 см. Девочка решила украсить ее кисточками по ширине, расположив кисточки на расстоянии 1 см одна от другой, первая и последняя кисточки украшают углы салфетки. Сколько кисточек нужно сделать Марине?



В ответ впишите только число.

62