



ВСЕРОССИЙСКАЯ ОЛИМПИАДА ШКОЛЬНИКОВ
ПО ИСТОРИИ. 2019–2020 уч. г.
МУНИЦИПАЛЬНЫЙ ЭТАП. 7 КЛАСС

В заданиях 1–3 дайте один верный ответ. Ответы внесите в таблицу в бланке работы.


1. Про крещение какого древнерусского города появилось устойчивое выражение «Путята крестил мечом, а Добрыня – огнём»?
2. Прочитайте представленный отрывок. Укажите год, когда произошло событие, описанное в источнике.
«И свершилось предсказанное: Константином создан город и при Константине погиб. Ибо за согрешения время от времени бывает возмездие судом Божиим, злодеяния ведь, говорится, и беззакония низвергнут престолы могучих».
3. Прочитайте представленный текст. Укажите имя князя, которому приходился внуком упомянутый в тексте князь Пётр
«Жил благочестивый **князь Пётр**, сын великого князя Дмитрия Ивановича, и была у него княгиня, Евфросинья по имени. Жили они во всяческом благочестии и любви».

Максимум за задания 1–3 – 3 балла.

В заданиях 4 и 5 выберите несколько верных ответов из предложенных. Ответы внесите в таблицу в бланке работы.

4. Ниже представлен список суждений. Выберите верные утверждения, связанные с эпохой Средневековья (V–XV вв.).
 - 1) В Европе существовали города с населением свыше 1 миллиона человек.
 - 2) В Европе существовало более 10 университетов.
 - 3) Существовало несколько государств с республиканской формой правления.
 - 4) Европейцы в Средние века не знали о существовании Индии и Китая.
 - 5) Европейцы в Средние века не знали о существовании Индонезии и Австралии.
 - 6) К X–XI вв. Библия была переведена на национальные языки крупнейших европейских стран.

Не забудьте перенести Ваши ответы в бланк работы!



5. Прочитайте текст и выберите суждения, которые ему соответствуют.

«После этих слов сошлись противники друг с другом, и покрылось поле Альтское множеством воинов. И на восходе солнца вступили в бой, и была сеча зла, трижды вступали в схватку и так бились целый день, и лишь к вечеру одолел Ярослав, а окаянный Святополк обратился в бегство. И обуяло его безумие, и так ослабели суставы его, что не мог сидеть на коне, и несли его на носилках. Прибежали с ним к Берестью. Он же говорит: “Бежим, ведь гонятся за нами!” И послали разведать, и не было ни преследующих, ни едущих по следам его».

- 1) В тексте описывается княжеская усобица XII века.
- 2) В тексте упоминается убийца князей Бориса и Глеба.
- 3) События, описанные в тексте, происходили недалеко от Киева.
- 4) В тексте упоминается князь, при котором была крещена Русь.
- 5) Упомянутый в представленном тексте Ярослав правил накануне описанных событий в Тьмутаракани.
- 6) Рядом с рекой, где произошло описываемое сражение, впоследствии русские князья потерпели поражение от кочевников.


Максимум за задания 4, 5 – 6 баллов.

6. Перед вами перечень событий, произошедших в трёх разных веках. Укажите эти века в верхней строке таблицы. Под названиями веков поставьте номера соответствующих событий.

- 1) поход Тимура (Тамерлана) на Москву
- 2) киевское восстание против Изяслава Ярославича
- 3) основание Москвы
- 4) II Крестовый поход
- 5) Авиньонское пленение пап
- 6) Клемонский собор
- 7) «Хождение в Каноссу»
- 8) битва на Косовом поле между сербскими и османскими войсками
- 9) смерть Фридриха Барбароссы

Максимум за задание – 9 баллов.

Не забудьте перенести Ваши ответы в бланк работы!



7. Дайте краткое обоснование ряда (что объединяет перечисленные элементы с исторической точки зрения) и укажите, какой из элементов является лишним по данному основанию.

7.1. Великий Новгород, Рязань, Старая Русса, Псков.

7.2. Посадник, тысяцкий, смерд, архиепископ-владыка.

Максимум за задание – 8 баллов.

8. Что с исторической точки зрения объединяет перечисленные в ряду элементы? Дайте максимально точный ответ.

8.1. Тарквиний Гордый, Сервий Туллий, Ромул, Анк Марций.

8.2. Песнь о Нибелунгах, Илиада, Старшая Эдда, Песня о Роланде.


Максимум за задание – 6 баллов.

9. Расположите события в хронологической последовательности. Ответы внесите в таблицу в бланке работы.

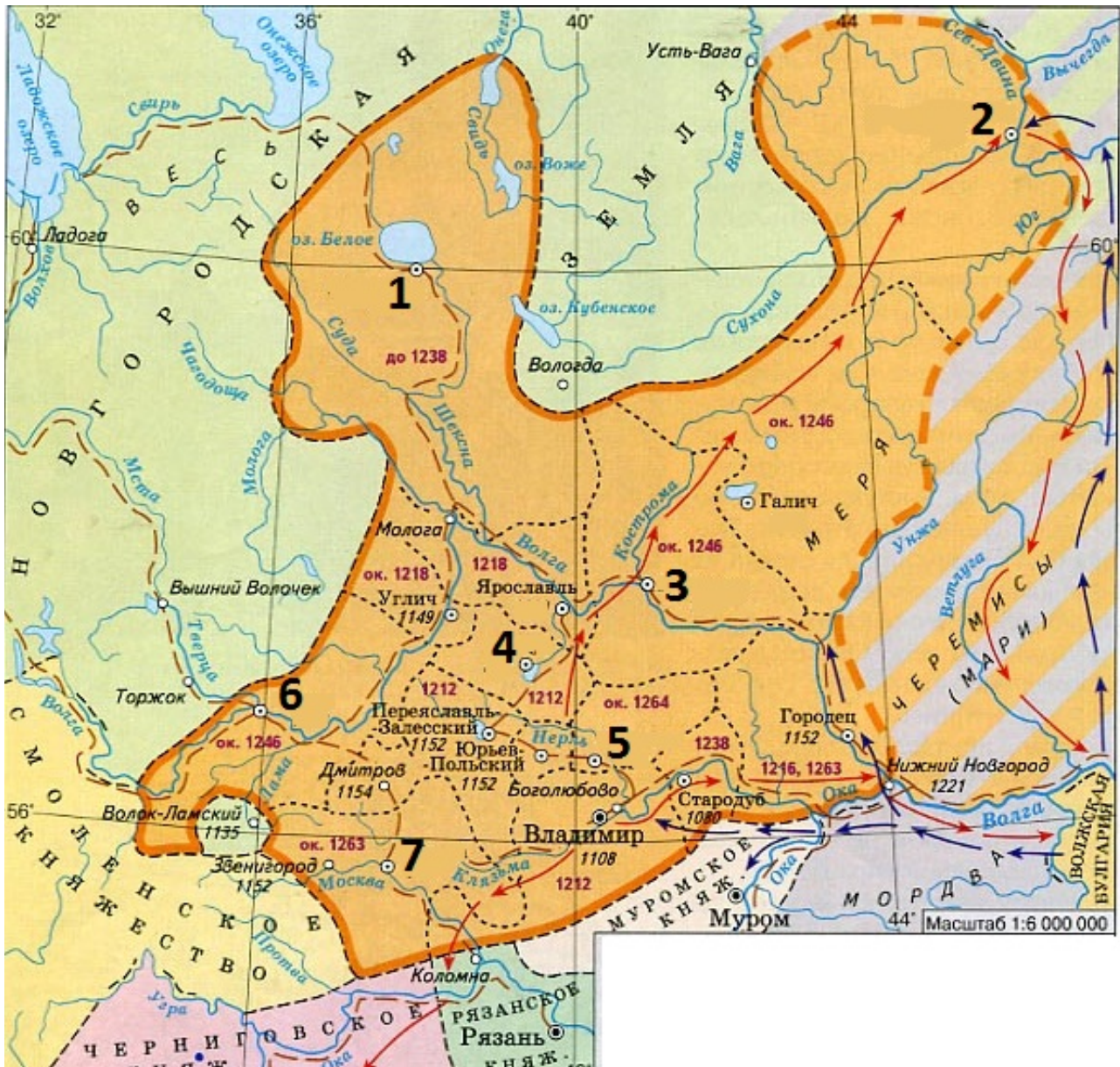
- 1) крещение короля Хлодвига
- 2) крещение княгини Ольги
- 3) крещение князя Владимира
- 4) крещение императора Константина
- 5) крещение князя Ягайло

Максимум за задание – 5 баллов.

Не забудьте перенести Ваши ответы в бланк работы!




10. Внимательно рассмотрите схему и выполните задания, помещённые ниже.



10.1. Укажите название княжества, которое изображено на представленной схеме полностью. Укажите полное название его столицы.

Не забудьте перенести Ваши ответы в бланк работы!



10.2. Выберите верные утверждения из предложенных.

- 1) На схеме обозначены события, вошедшие в историю под названием Батыево нашествие.
- 2) На схеме указано название резиденции Андрея Юрьевича Владимирского.
- 3) На схеме обозначен город, название которого стало частью имени легендарного русского богатыря.
- 4) Изображённые на схеме границы княжества приведены по состоянию на первую половину XIV века.
- 5) На представленной схеме указаны названия финно-угорских племенных союзов.
- 6) На представленной схеме указано название места, где произошёл княжеский съезд, на котором князьями был установлен принцип «каждый да держит отчину свою».


10.3. Вашему вниманию представлены факты, связанные с историей городов, обозначенных цифрами на схеме. Заполните представленную таблицу: соотнесите цифру, обозначающую город, с фактом из его истории, также укажите названия соответствующих городов.

Факты

- А) Первое летописное упоминание города связано с междоусобицами между сыновьями Всеволода Большое Гнездо.
- Б) В этом городе, согласно летописи, правил легендарный варяжский князь Синеус, пришедший на Русь вместе с Рюриком.
- В) Один из древнейших городов Волго-Окского междуречья – его называли «дедом Залесской земли», а в его Кремле (который логичнее было бы назвать митрополичьей резиденцией) снимали кинофильм «Иван Васильевич меняет профессию».
- Г) Город был основан купцами в XII веке как торговая фактория, однако сегодня он более известен как родина Деда Мороза.
- Д) В городе произошло крупнейшее антиордынское восстание в XIV веке.
- Е) В XIV веке в этот город перенесли резиденцию митрополиты всея Руси.
- Ж) Около города произошла крупная битва, в результате которой в казанский плен попал московский князь Василий II.

Максимум за задание – 23 балла.

Не забудьте перенести Ваши ответы в бланк работы!



11. Рассмотрите изображение и выполните задания.



11.1. Укажите название архитектурного ансамбля, изображённого на представленном изображении.

11.2. Укажите современное название площади, со стороны которой на монете представлен вид на этот архитектурный ансамбль.


11.3. Назовите проездные башни этой крепости, изображённые на рисунке. Объясните название каждой из них.

11.4. При каком правителе была построена крепость, представленная на изображении? Свой ответ подтвердите двумя аргументами.

Максимум за задание – 17 баллов.

12. Внимательно изучите представленный фрагмент договорной грамоты XIII века и ответьте на вопросы.

«Благословение от владыки, поклон от посадника Павше, и от всех старейших, и от всего города, к господину князю Ярославу. На семь, княже, целуй крест к всему городу; на семь то целовали дед и отец твой Ярослав. Что волостей всех городских, тех волостей, княже, не держати ты со своими мужи, но держати их мужам городским; а дар, княже, тебе имати от тех волостей. А без посадника ты, княже, суда не судити, ни волостей раздавати: а кому волости роздал Александр брат твой, тех волостей тебе без вины не лишати. А



в Бежичях тебе, княже, ни твоей княгини, ни твоим бояром, ни твоим слугам сел не держати, ни купити, ни в дар приимати, и по всей волости также».

12.1. Назовите князя, с которым заключался настоящий договор. Укажите его имя и отчество.

12.2. Укажите землю (княжество), с которой князь заключил этот договор.

12.3. Укажите имена и отчества (и прозвища, если таковые есть) упомянутых в тексте «деда», «отца» и «брата Александра» упомянутого князя.

12.4. Укажите ограничения власти князя, описанные в представленном источнике. Приведите 3 ограничения.


Максимум за задание – 16 баллов.

13. Из предложенных изображений, выберите те, которые сюжетно относятся к Великой Отечественной войне. Запишите в поле ответа их порядковые номера.

1



2




3



4



5



6



7



Максимум за задание – 8 баллов.

Максимум за работу – 101 балл

