

ВСЕРОССИЙСКАЯ ОЛИМПИАДА ШКОЛЬНИКОВ
ПО ТЕХНОЛОГИИ 2015–2016 уч. г.

ШКОЛЬНЫЙ ЭТАП

6 класс

Номинация «Культура дома и декоративно-прикладное творчество»

Теоретический тур

1. Подберите слово, чтобы получить известную пословицу: «Какова _____, такова на ней и рубаха».
2. «Приготовьте» завтрак на пять человек, рассчитайте необходимое количество продуктов и заполните таблицу.

№	Блюдо	Продукты	Количество продуктов на одного человека	Необходимое количество продуктов
1	сложный бутерброд	хлеб	2 ломтика	
		колбаса	30 г	
		сыр	30 г	
		зелень	10 г	
2	йогурт		1 баночка	
3	какао	какао-порошок	1 чайная ложка	
		сахар	30 г	
		молоко	1 стакан	


3. Установите соответствие между продуктами, изображёнными на рисунках, и пищевыми веществами, которыми они богаты.



1



2



3

А) белки

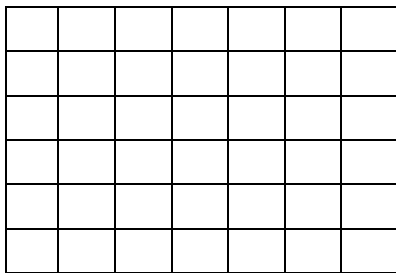
Б) жиры

В) углеводы

1	2	3

4. К какой группе продуктов относится отгадка загадки: «Сидит дед, во сто шуб одет, кто его раздевает, тот слёзы проливает»?

5. Покажите саржевое переплетение с помощью двух цветов, напишите названия нитей в данном переплетении.



■ _____

□ _____

6. Выберите самые толстые нитки из предложенного списка.

а) № 80

б) № 40

в) № 60

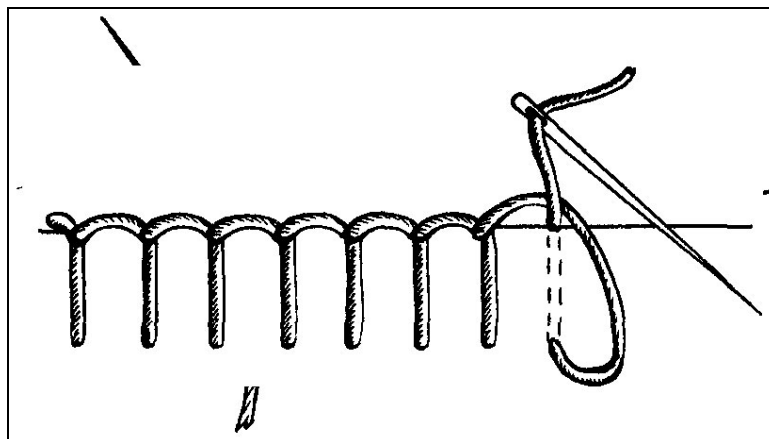
г) № 10

7. Две каменные лестницы одинаковой высоты 2 м и с одинаковым основанием длины 3 м покрыты ковровыми дорожками. У первой лестницы 7 ступенек, а у второй – 9 (см. рисунок). Дорожка, покрывающая какую из лестниц, длиннее?



8. Как нужно положить нож и вилку при сервировке стола?

9. Как называется такой стежок?



10. Творческое задание.

Выберите фартук из предложенных по назначению:

- а) для домашней кухни;
- б) для русского народного костюма;
- в) для слесарно-столярных работ

Для выбранного фартука выполните следующие задания.

- 10.1. Выполните эскиз модели.
- 10.2. Перечислите материалы, которые необходимы для его изготовления.
- 10.3. Какие инструменты и оборудование потребуются?
- 10.4. Опишите технологическую последовательность изготовления изделия.
- 10.5. Предложите способы декорирования изделия.